

## Multi Tasking (Non-Technical) Staff Examination 2019

Roll No.	
Registration No.	
Name	SSC MTS
Test Venue	iON Digital Zone iDZ Azad Puram
Test Time	12:30 PM - 2:00 PM
Test Date	06/08/2019

Section : General English

Q.1 Choose the most appropriate word that can substitute the given group of words.

A group of Lions

- Ans
- 1. Pack
  - 2. Pride
  - 3. Herd
  - 4. Flock

Question ID : 239087971

Status : Answered

Chosen Option : 1

Q.2 Select the most appropriate meaning of the given idiom.

Pull up your socks

- Ans
- 1. To lose one's temper
  - 2. To put in extra effort
  - 3. To play a joke on someone
  - 4. To suspect some foul play

Question ID : 239087969

Status : Answered

Chosen Option : 4

Q.3 Select the most appropriate option to substitute the underlined segment in the given sentence. If there is no need to substitute it, select No Improvement.

It is danger to cross the road unmindfully.

- Ans
- 1. It is dangerous
  - 2. It is full of dangerous
  - 3. There is danger
  - 4. No Improvement

Question ID : 239087956

Status : Answered

Chosen Option : 1

Q.4 Choose the most appropriate word that can substitute the given group of words.

A person pretending to be somebody he isn't

Ans

- 1. Aristocrat
- 2. Hypocrite
- 3. Conservative
- 4. Bureaucrat

Question ID : 239087972

Status : Answered

Chosen Option : 2

Q.5 Find the part of the given sentence that has an error in it. If there is no error, choose 'No error'.

The 91 year old lady have been a fan of cricket for decades. /No error Ans

- 1. of cricket for decades
- 2. No error
- 3. The 91 year old lady
- 4. have been a fan

Question ID : 239087951

Status : Answered

Chosen Option : 1

Q.6 Choose the correctly spelt word. Ans

- 1. Ignorence
- 2. Interupt
- 3. Thriller
- 4. Colaborate

Question ID : 239087973

Status : Answered

Chosen Option : 3

Q.7 Choose the correctly spelt word. Ans

- 1. Knowledge
- 2. Patner
- 3. Lisence
- 4. Neice

Question ID : 239087974

Status : Answered

Chosen Option : 1

Q.8 Select the most appropriate option to substitute the underlined segment in the given sentence. If there is no need to substitute it, select No Improvement.

You need have brought your umbrella as it is a cloudy day.

- Ans
- 1. can have
  - 2. could has
  - 3. should have
  - 4. No Improvement

Question ID : 239087954  
Status : Answered  
Chosen Option : 3

Q.9 Select the most appropriate meaning of the given idiom.

Eye wash

- Ans
- 1. A problem
  - 2. A fact
  - 3. A solution
  - 4. A deception

Question ID : 239087970  
Status : Answered  
Chosen Option : 4

Q.10 Select the most appropriate synonym of the given word.

Benevolent

- Ans
- 1. Miser
  - 2. Cruel
  - 3. Malevolent
  - 4. Generous

Question ID : 239087965  
Status : Answered  
Chosen Option : 4

**Comprehension:**

In the following passage some words have been deleted. Fill in the blanks with the help of the alternatives given. Select the most appropriate option for each blank.

Buffer stock refers to a (1)\_\_\_\_\_of a commodity that is used to offset price fluctuations (2)\_\_\_\_\_unforeseen emergencies. Buffer stock is generally (3)\_\_\_\_\_for essential commodities and necessities like food grains, pulses, etc. The Cabinet Committee (4)\_\_\_\_\_Economic Affairs (5)\_\_\_\_\_the minimum buffer stock on a quarterly basis.

**SubQuestion No : 11**

Q.11 Select the most appropriate option for blank No. 1. Ans

- 1. reservation
- 2. reserved
- 3. reserve
- 4. reserves

Question ID : 239087960  
Status : Answered  
Chosen Option : 3

**Comprehension:**

In the following passage some words have been deleted. Fill in the blanks with the help of the alternatives given. Select the most appropriate option for each blank.

Buffer stock refers to a (1)\_\_\_\_\_of a commodity that is used to offset price fluctuations (2)\_\_\_\_\_unforeseen emergencies. Buffer stock is generally (3)\_\_\_\_\_for essential commodities and necessities like food grains, pulses, etc. The Cabinet Committee (4)\_\_\_\_\_Economic Affairs (5)\_\_\_\_\_the minimum buffer stock on a quarterly basis.

**SubQuestion No : 12**

**Q.12 Select the most appropriate option for blank No. 2. Ans**

- 1. if
- 2. and
- 3. also
- 4. even

Question ID : 239087961  
Status : Answered  
Chosen Option : 2

**Comprehension:**

In the following passage some words have been deleted. Fill in the blanks with the help of the alternatives given. Select the most appropriate option for each blank.

Buffer stock refers to a (1)\_\_\_\_\_of a commodity that is used to offset price fluctuations (2)\_  
\_\_\_\_\_unforeseen emergencies. Buffer stock is generally (3)\_\_\_\_\_for essential  
commodities and necessities like food grains, pulses, etc. The Cabinet Committee (4)\_\_\_\_\_  
Economic Affairs (5)\_\_\_\_\_the minimum buffer stock on a quarterly basis.

**SubQuestion No : 13**

**Q.13 Select the most appropriate option for blank No. 3. Ans**

- 1. maintains
- 2. maintaining
- 3. maintained
- 4. maintain

Question ID : 239087962  
Status : Answered  
Chosen Option : 4

**Comprehension:**

In the following passage some words have been deleted. Fill in the blanks with the help of the alternatives given. Select the most appropriate option for each blank.

Buffer stock refers to a (1)\_\_\_\_\_of a commodity that is used to offset price fluctuations (2)\_  
\_\_\_\_\_unforeseen emergencies. Buffer stock is generally (3)\_\_\_\_\_for essential  
commodities and necessities like food grains, pulses, etc. The Cabinet Committee (4)\_\_\_\_\_  
Economic Affairs (5)\_\_\_\_\_the minimum buffer stock on a quarterly basis.

**SubQuestion No : 14**

**Q.14 Select the most appropriate option for blank No. 4. Ans**

- 1. in
- 2. for
- 3. to
- 4. at

Question ID : 239087963  
Status : Answered  
Chosen Option : 2

**Comprehension:**

In the following passage some words have been deleted. Fill in the blanks with the help of the alternatives given. Select the most appropriate option for each blank.

Buffer stock refers to a (1)\_\_\_\_\_of a commodity that is used to offset price fluctuations

(2)\_\_\_\_\_unforeseen emergencies. Buffer stock is generally (3)\_\_\_\_\_for essential commodities and necessities like food grains, pulses, etc. The Cabinet Committee (4)\_\_\_\_\_ Economic Affairs (5)\_\_\_\_\_the minimum buffer stock on a quarterly basis.

**SubQuestion No : 15**

**Q.15 Select the most appropriate option for blank No. 5. Ans**

- 1. forces
- 2. guides
- 3. fixes
- 4. rules

Question ID : 239087964  
Status : Answered  
Chosen Option : 3

**Q.16 Select the most appropriate option to fill in the blank.**

They sat by the river bank with their legs \_\_\_\_\_ in the water.

- Ans
- 1. remaining
  - 2. swimming
  - 3. washing
  - 4. dangling

Question ID : 239087975  
Status : Answered  
Chosen Option : 4

**Q.17 Select the most appropriate antonym of the given word.**

**Linger**

- Ans
- 1. Quicken
  - 2. Stop
  - 3. Wait
  - 4. Defer

Question ID : 239087968  
Status : Answered  
Chosen Option : 1

**Q.18 Select the most appropriate option to fill in the blank.**

A twelve year old boy drowned in a pit \_\_\_\_\_ up for the coastal road project.

- Ans
- 1. dig
  - 2. digs
  - 3. digging
  - 4. dug

Question ID : 239087958  
Status : Answered  
Chosen Option : 4

**Q.19 Select the most appropriate option to fill in the blank.**

She had a bandage \_\_\_\_\_ round her finger.

- Ans
- 1. covered
  - 2. twisted
  - 3. wrapped
  - 4. bound

Question ID : 239087976  
Status : Answered  
Chosen Option : 3

Q.20 Select the most appropriate option to substitute the underlined segment in the given sentence.  
If there is no need to substitute it, select No Improvement.

He made multiple attempts at securing a government job.

- Ans
- 1. attempt in
  - 2. No Improvement
  - 3. attempt for
  - 4. attempts through

Question ID : 239087955  
Status : Answered  
Chosen Option : 1

Q.21 Select the most appropriate option to fill in the blank.

We cannot quote a price \_\_\_\_\_ we are allowed to examine the sample.

- Ans
- 1. except
  - 2. unless
  - 3. because
  - 4. whether

Question ID : 239087957  
Status : Answered  
Chosen Option : 4

Q.22 Find the part of the given sentence that has an error in it. If there is no error, choose 'No error'.

It would take up few of my time to explain to you the whole case. /No error Ans

- 1. few of my time to
- 2. No error
- 3. explain to you the whole case
- 4. It would take up

Question ID : 239087952  
Status : Answered  
Chosen Option : 1

Q.23 Select the most appropriate antonym of the given word.

Jovial

- Ans
- 1. Hesitant

2. Gloomy

3. Cheerful

4. Tired

Question ID : 239087967  
Status : Answered  
Chosen Option : 2

Q.24 Find the part of the given sentence that has an error in it. If there is no error, choose 'No error'.

He always stood up for the rights of the oppressed. /No error Ans

1. No error

2. He always stood up

3. of the oppressed

4. for the rights

Question ID : 239087953  
Status : Not Answered  
Chosen Option : --

Q.25 Select the most appropriate synonym of the given word.

Harass

Ans  1. Molest

2. Assist

3. Comfort

4. Scare


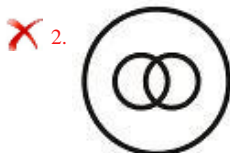

Question ID : 239087966  
Status : Answered  
Chosen Option : 1

Section : General Intelligence & Reasoning

Q.1 Identify the diagram that best represents the relationship among the given classes.

Lawyer, Profession, Client

Ans



4.



Question ID : 239087723

Status : Answered

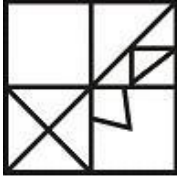
Chosen Option : 3

Q.2 दी गई उत्तर आकृतियों में से, उस उत्तर आकृति को चुनिए जिसमें नीचे दी गई प्रश्न आकृति में समाहित/अन्तर्निहित है।(आकृति को घुमाने की अनुमति नहीं है)

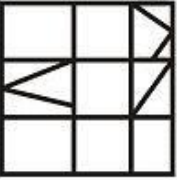
Ans



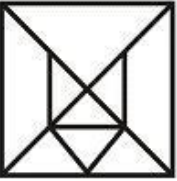
1.



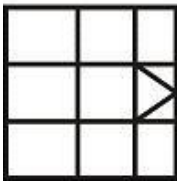
2.



3.



4.



Question ID : 239087720

Status : Answered

Chosen Option : 4

Q.3 एक ङवङशङ कू ट भाषा ढ", 'FRAUD' को '6181214' ङलखा जाता है, 'RING' को '189147' ङलखा जाता है। उसी कू ट भाषा ढ" 'GLOBE' का कोड ढया होगा?

Ans



1. 7525121



2. 7125125



3. 7131525



4. 7121525

Question ID : 239087705

Status : Answered

Chosen Option : 4

Q.4 ङन'नङलङखत ङवकuपा ढ" से उस शङद यु'ढ को चुङनए, ङजनढ" वही संबंढ है, जो नीचे ङदए गए शङद यु'ढ ढ" है।



भोजन : रसोइया :: ?

- Ans
- 1. ढकसान : फसल
  - 2. फनाचर : लकड़ी
  - 3. दर्जा : व57
  - 4. गहने : सुनार

Question ID : 239087701

Status : Answered

Chosen Option : 4

Q.5 नीचे ढदए ढवकडुपा म" से उस सं"या को चुढनए जो ढन"नढलढखत ढःखला म" #ढढढढ (?) के 5थान पर आढगी।

63, 82, 102, 123, 145, ?

- Ans
- 1. 168
  - 2. 178
  - 3. 167
  - 4. 159

Question ID : 239087712

Status : Answered

Chosen Option : 1

Q.6 ढकन दो सं"यान को पर5पर बदलने पर समीकरण सही हो जाएगा?

$9 - 2 \times 4 \div 6 = -3$

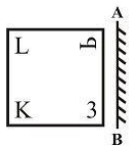
- Ans
- 1. 2 तथा 4
  - 2. 6 तथा 2
  - 3. 4 तथा 9
  - 4. 6 तथा 9

Question ID : 239087717

Status : Answered

Chosen Option : 2

Q.7 यदि एक दर्पण को AB रेखा पर रखा जाए, तो दी गई उत्तर आकृतियों में से कौन सी आकृति प्रश्न आकृति की सही प्रतिबिंब होगी?



Ans

- 1.
-

X 2.

P	L
E	K

✓ 3.

P	J
E	K

X 4.

P	J
E	K

Question ID : 239087721

Status : Answered

Chosen Option : 3

Q.8 एक ढवढशB कू ट भाषा म", 'LIP' को '40' ढलखा जाता है, 'GILT' को '51' ढलखा जाता है। उसी कोड भाषा म" 'ROPE' का कोड Fया होगा?

Ans

✓ 1. 57

X 2. 56

X 3. 51

X 4. 54

Question ID : 239087706

Status : Answered

Chosen Option : 1

Q.9 नीचे एक ढेॄंखला दऱ गयी है, ढजसम" से एक अणर समूह नहऱ ढदया गया है। ढदए गए ढवकऱपा म" से वह सही ढवकऱप चुऱनए, जो ढेॄंखला को पूरा करेगा।

ROD, XUJ, DAP, JGV, ?

Ans

X 1. QNC

X 2. PNB

X 3. QMB

✓ 4. PMB

Question ID : 239087699

Status : Answered

Chosen Option : 2

Q.10 निम्नलिखित प्रश्न में, दिए गए विकल्पों में से उस संख्या को चुनिए जो प्रश्न चिह्न (?) के स्थान पर आएगी।

6 3 8 20

9 5 1 ?

1<sup>1</sup> 4 7 26

Ans

✓ 1. 20

X 2. 17

3. 19

4. 14

Question ID : 239087715

Status : Answered

Chosen Option : 3

Q.11 पाँच अक्षरों K, L, M, N तथा P (जवरी नहीं अक वे इसी उम म" हो) को सोमवार से शुवार तक अदखाया जा है। एक अदन म" केवल एक ही अक्षर अदखाई जाती है। अयेक अक्षर केवल एक ही बार अदखाई जाती है। अक्षर K सोमवार को अदखाई जाती है। N तथा P के मय दो अक्षर" अदखाई जाती ह"। L, P के ठक एक अदन बाद अदखाई जाती है। M से पहले अकतनी अक्षर" अदखाई जाती ह"?

Ans 1. 2

2. 4

3. 1

4. 3

Question ID : 239087709

Status : Answered

Chosen Option : 4

Q.12 नीचे अदए गए अE म", कुछ कथन और उनके बाद उन कथना पर आधाअरत कुछ अनरकष" अदए गए ह"। अदए कथना को सही मानते अ, चाहे वे सामा=य वप से ात तया से अअु अतीत होते हा, सभी अनरकषा को पअदए और अफर अनधा" अरत कअअए अक अदए गए कौन से/सा अनरकष", कथना का ताअकक वप से अनुसरण करता/करते ह"।

कथन:

I. सभी फोटो फोन ह"।

II. कु छ फोन पीले ह"।

III. कोई पीला लाल नहीं है।

अनरकष' :

I. कु छ लाल फोटो ह"।

II. कु छ पीले फोन ह"।

III. कोई लाल फोटो नहीं ह"।

Ans 1. केवल अनरकष' I अनुसरण करता है।

2. कोई भी अनरकष' अनुसरण नह? करता है।

3. केवल अनरकष' II अनुसरण करता है।

4. केवल अनरकष' III अनुसरण करता है।

Question ID : 239087710

Status : Answered

Chosen Option : 3

Q.13 नीचे अदए गए अE म", कुछ कथन और उनके बाद उन कथना पर आधाअरत कुछ अनरकष" अदए गए ह"। अदए कथना को सही मानते अ, चाहे वे सामा=य वप से ात तया से अअु अतीत होते हा, सभी अनरकषा को पअदए और अफर अनधा" अरत कअअए अक अदए गए कौन से/सा अनरकष", कथना का ताअकक वप से अनुसरण करता/करते ह"।

कथन:

I. सभी T, P ह"।

II. कु छ P, Q ह"।

अनरकष' :

I. कु छ Q, P ह"।

II. कु छ P, T ह"।

Ans 1. केवल अनरकष' II अनुसरण करता है।

- 2. केवल 'अनुरक्षण I' अनुसरण करता है।
- 3. दोनों 'अनुरक्षण I' तथा 'अनुरक्षण II' अनुसरण करते हैं।
- 4. कोई भी 'अनुरक्षण' अनुसरण नहीं करता है।

Question ID : 239087711  
Status : Answered  
Chosen Option : 3

Q.14 नीचे 'अद्वैत' शब्दों में से उस संख्या युग्म को चुनिए जो 'अनुरक्षण' श्रेणी में 'अद्वैत' के 5थान पर आएगी।

16, 17, 23, 18, 19, 26, 20, 21, 29, 22, ?, ?

- Ans
- 1. 23, 32
  - 2. 25, 36
  - 3. 32, 23
  - 4. 36, 25

Question ID : 239087713  
Status : Answered  
Chosen Option : 1

Q.15 'अद्वैत' शब्दों E, G, I, K, M तथा O एक पंक्ति में उभर करके खड़े हैं (जैसी नहीं 'अद्वैत' शब्दों में हो)। M, E के तुरंत दायां ओर खड़ा है। K, O के दायां ओर से 5थान पर खड़ा है। I तथा M के मध्य दो 'अद्वैत' शब्दों खड़े हैं। K, G के बायां ओर है। K के तुरंत दायां ओर कौन खड़ा है?

- Ans
- 1. I
  - 2. G
  - 3. E
  - 4. M

Question ID : 239087707  
Status : Answered  
Chosen Option : 3

Q.16 'अनुरक्षण' श्रेणी में, 'अद्वैत' शब्दों में से संबंधित अक्षर युग्म को चुनिए।

TIR : VKT :: ?

- Ans
- 1. RAP : TCS
  - 2. LOD : NMF
  - 3. GEM : IGO
  - 4. GAR : IYT

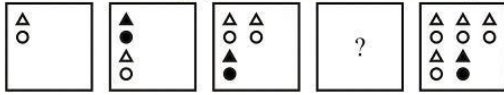
Question ID : 239087702  
Status : Answered  
Chosen Option : 3

Q.17 एक 'अद्वैत' शब्दों की भाषा में, 'SOLVED' को 'OSVLDE' लिखा जाता है। उसी शब्दों की भाषा में 'CREATE' का लिखा होगा?

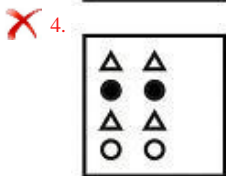
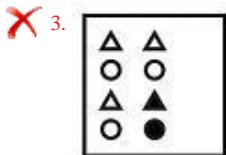
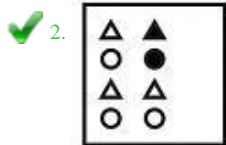
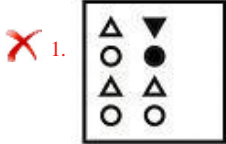
- Ans
- 1. RCAETE
  - 2. RCEAET
  - 3. RCTAEE

Question ID : 239087703  
 Status : **Answered**  
 Chosen Option : 4

Q.18 निम्नलिखित प्रश्न में, दिए गए विकल्पों में से प्रश्न चिह्न (?) के स्थान पर आने वाली आकृति को चुनिए।

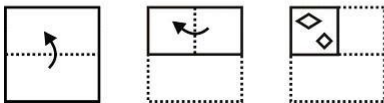


Ans

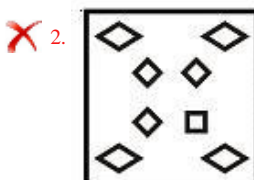
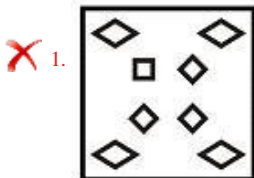


Question ID : 239087718  
 Status : **Answered**  
 Chosen Option : 3

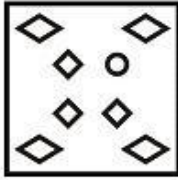
Q.19 नीचे दी गयी प्रश्न आकृतियों में दिखाए अनुसार कागज के एक टुकड़े को मोड़ा जाता है और छेद किया जाता है। जब इसको खोला जाएगा तो वह दी गयी उत्तर आकृतियों में से किसके जैसा दिखाई देगा?




Ans



3.



4.



Question ID : 239087722

Status : Answered

Chosen Option : 4

Q.20 उस ङवकणप का चयन कर" जो तीसरे शङद से उसी तरह से संबंङधत है जैसे \सरा शङद पहले शङद से संबंङधत है।

\ट : दङवार :: 5वण' : ?

Ans 1. गहने

2. धातु

3. पीला

4. सत

Question ID : 239087700

Status : Answered

Chosen Option : 1

Q.21 उस ङवकणप का चयन कर" जो तीसरी सं"या से उसी तरह से संबंङधत है जैसे \सरी सं"या पहली सं"या से संबंङधत है।

31 : 54 :: 43 : ?

Ans 1. 74

2. 64

3. 66

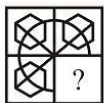
4. 76

Question ID : 239087714

Status : Answered

Chosen Option : 4

Q.22 दिए गए पैटर्न का ध्यानपूर्वक अध्ययन कीजिए और उस आकृति को चुनिए जो प्रश्न आकृति में दिये गए पैटर्न को पूरा करेगी।



Ans

1.



2.





Question ID : 239087719

Status : Answered

Chosen Option : 1

Q.23 छः कम चारी L, N, P, R, T तथा V के=1 कत ओर मुख करके एक वृUाकार मेज के इद - ङगद बैठे \ए ह\* छी नहं ङक वे इसी Uम म" हो। V, N के बायं ओर \सरा है। L, P के तुरंत बायं ओर है। R, P के बायं ओर \सरा है। P, N के दायं ओर तीसरा है। V के तुरंत दायं ओर कौन बैठा \आ है?

Ans  1. P

2. N

3. T

4. R

Question ID : 239087708

Status : Answered

Chosen Option : 3

Q.24 एक ङवङशङ कूट भाषा म", 'RAPID' को 'LUJCX' ङलखा जाता है। उसी कूट भाषा म" 'STARE' का कोड ङहोगा?

Ans  1. MNULY

2. NOULY

3. MMULY

4. NPULY

Question ID : 239087704

Status : Answered

Chosen Option : 1

Q.25 ङकन दो ङचाT को परङपर बदलने पर समीकरण सही हो जाएगा?

$$19 + 63 \div 7 - 8 \times 12 = 79$$

Ans  1.  $\div$  तथा  $-$

2.  $\times$  तथा  $+$

3.  $-$  तथा  $\times$

4.  $\times$  तथा  $\div$

Question ID : 239087716

Status : Answered

Chosen Option : 3

Section : Numerical Aptitude

Q.1 वह सबसे बड़ी संख्या कौन सी है जो 460, 491 तथा 553 को विभाजित करती है तो प्रत्येक मामले में 26 शेष रहता है?

Ans  1. 27

2. 35

3. 33

4. 31

Question ID : 239087824  
Status : Answered  
Chosen Option : 4

Q.2 यदि लाभ, विक्रय मूल्य का 20% है, तो लाभ, लागत मूल्य का कितना प्रतिशत है?

Ans  1. 15%

2. 25%

3. 22.5%

4. 20%

Question ID : 239087833  
Status : Answered  
Chosen Option : 2

Q.3 यदि ₹12000 को 20% प्रति वर्ष की दर से चक्रवृद्धि ब्याज (वार्षिक रूप से संयोजित) पर 2 वर्ष के लिए निवेश किया गया है, तो ब्याज कितनी है?

Ans  1. ₹5280

2. ₹4280

3. ₹4800

4. ₹5640

Question ID : 239087838  
Status : Answered  
Chosen Option : 1

Q.4 a तथा b का औसत 36 है। b तथा c का औसत 42 है। c तथा a के बीच कितना अंतर है?

Ans  1. 18

2. 12

3. 16

4. 14

Question ID : 239087828  
Status : Answered  
Chosen Option : 2

Q.5  $(3 \times 4 \text{ of } 12 \div 2) \div 9 \times 4 + 4 \div 8 + 3 \times 2$  का मान कितना है?

Ans  1.  $\frac{89}{3}$

2.  $\frac{37}{2}$

3.  $\frac{94}{3}$



✓ 4.  $\frac{77}{2}$

Question ID : 239087825

Status : Answered

Chosen Option : 4

Q.6 59, 63, 68, 77, 74 तथा 73 का औसत कितना है, जब प्रत्येक संख्या को 23 से विभाजित किया जाता है?

Ans

✗ 1.  $\frac{63}{23}$

2.  $\frac{67}{23}$

✓ 3. 3

✗ 4. 46

Question ID : 239087827

Status : Answered

Chosen Option : 3

Q.7 यदि ₹1000 को 12.5% प्रति वर्ष की दर से साधारण ब्याज पर 2 वर्ष के लिए निवेश किया गया है, तो मिश्रधन कितना है?

Ans

✗ 1. ₹1125

✓ 2. ₹1250

✗ 3. ₹1325

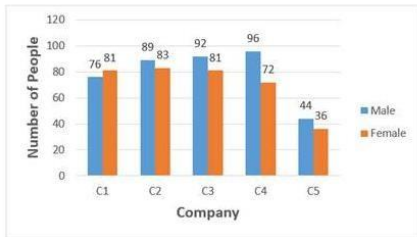
✗ 4. ₹1275

Question ID : 239087837

Status : Answered

Chosen Option : 2

Q.8 नीचे दिया गया दंड आरेख पाँच विभिन्न कंपनियों में कार्य करने वाले पुरुषों तथा महिलाओं की संख्या को दर्शाता है।



Ans C2 तथा C3 कंपनियों में कार्य करने वाले पुरुषों की कुल संख्या तथा C1 तथा C5 कंपनियों में कार्य करने वाली महिलाओं में कितना अंतर है?

✗ 2. 182 : 119

✗ 3. 183 : 124

✗ 4. 171 : 136

Question ID : 239087848

Status : Answered

Chosen Option : 1

Q.9 नीचे दिए गए आँकड़े विभिन्न छात्रों द्वारा प्राप्त अंकों को प्रदर्शित करते हैं।

अंक	छात्रों की संख्या
10 - 12	6
12 - 14	8
14 - 16	5
16 - 18	7
18 - 20	4

Ans ~~1.~~ 13.67 ~~2.~~ 13.33  3. 14.67 ~~4.~~ 15.33 का माध्य अंक (दो दशमलव स्थान तक) कितना है?

Question ID : 239087830

Status : Answered

Chosen Option : 3

Q.10 A का 26% = 832 है। A के 31% का मान कितना है?

Ans ~~1.~~ 968 ~~2.~~ 876 ~~3.~~ 854  4. 992

Question ID : 239087831

Status : Answered

Chosen Option : 4

Q.11 यदि  $X : Y : Z = 1 : 2 : 3$  तथा  $X^2 + Y^2 + Z^2 = 224$  है, तो  $X + Y + Z$  का मान कितना है?

Ans ~~1.~~ 48 ~~2.~~ 32 ~~3.~~ 36  4. 24

Question ID : 239087835

Status : Answered

Chosen Option : 4

Q.12 14 cm की त्रिज्या वाले किसी ठोस अर्धगोले का सम्पूर्ण पृष्ठ क्षेत्रफल तथा वक्र पृष्ठ क्षेत्रफल कितना है?

Ans 1.  $5544 \text{ cm}^2$ ,  $1848 \text{ cm}^2$

2.  $1848 \text{ cm}^2$ ,  $1232 \text{ cm}^2$

3.  $924 \text{ cm}^2$ ,  $616 \text{ cm}^2$

4.  $2772 \text{ cm}^2$ ,  $1848 \text{ cm}^2$

Question ID : 239087843

Status : Answered

Chosen Option : 2

Q.13 स्टूडियो A के 5 तकनीशियन किसी कार्य को 30 दिनों में कर सकते हैं। स्टूडियो B के 8 तकनीशियन उसी कार्य को 15 दिनों में कर सकते हैं। स्टूडियो A के 1 तकनीशियन और स्टूडियो B के 1 तकनीशियन मिलकर उसी कार्य को कितने दिनों में कर सकते हैं।

Ans

1.  $\frac{190}{3}$

2.  $\frac{200}{3}$

3.  $\frac{250}{9}$

4.  $\frac{220}{9}$

Question ID : 239087839

Status : Answered

Chosen Option : 2

Q.14 A किसी कार्य को अकेला 20 दिनों में कर सकता है। A तथा B मिलकर उसी कार्य को 15 दिनों में कर सकते हैं। B तथा C मिलकर उसी कार्य को  $\frac{75}{2}$  दिनों में कर सकते हैं। कार्य करने की दृष्टि से A, B तथा C की दक्षता का अनुपात कितना है?

Ans

1. 5 : 3 : 1

2. 10 : 4 : 1

3. 5 : 4 : 3

4. 15 : 5 : 3

Question ID : 239087840

Status : Answered

Chosen Option : 4

Q.15 वस्तु 1 का लागत मूल्य, उसे SP1 पर बेचने से हुए लाभ का 6 गुना है। वस्तु 2 का लागत मूल्य, उसे SP2 पर बेचने से हुई हानि का 3 गुना है। यदि दोनों वस्तुओं का लागत मूल्य समान है, तो SP1 तथा SP2 का अनुपात कितना है?

Ans

1. 7 : 4

2. 4 : 3

3. 6 : 5

4. 7 : 5

Question ID : 239087832

Status : Answered

Chosen Option : 1

Q.16

एक वस्तु का अंकित मूल्य ₹2800 है। वस्तु का विक्रय मूल्य ₹2408 है। छूट प्रतिशत कितना है?

- Ans
- 1. 18%
  - 2. 24%
  - 3. 16%
  - 4. 14%

Question ID : 239087829  
Status : Answered  
Chosen Option : 4

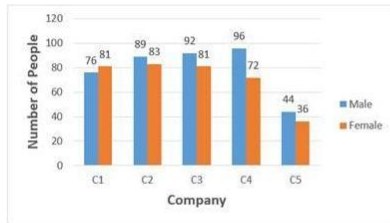
Q.17 किसी लंब वृत्तीय बेलन (सिलेंडर) की त्रिज्या 7 cm है। उसकी ऊँचाई उसकी त्रिज्या की दोगुनी है। बेलन (सिलेंडर) का वक्र पृष्ठ क्षेत्रफल कितना है?

( $\pi = \frac{22}{7}$  लें)

- Ans
- 1. 476 cm<sup>2</sup>
  - 2. 1232 cm<sup>2</sup>
  - 3. 616 cm<sup>2</sup>
  - 4. 896 cm<sup>2</sup>

Question ID : 239087844  
Status : Answered  
Chosen Option : 3

Q.18 नीचे दिया गया दंड आरेख पाँच विभिन्न कंपनियों में कार्य करने वाले पुरुषों तथा महिलाओं की संख्या को दर्शाता है।



Ans इन पाँच कंपनियों में कार्य करने वाले पुरुषों की कुल संख्या, इन पाँच कंपनियों में कार्य करने वाली महिलाओं की कुल संख्या से  12.46% प्रतिशत अधिक है?

- 2. 9.67%
- 3. 8.52%
- 4. 14.67%

Question ID : 239087846  
Status : Answered  
Chosen Option : 1

Q.19 कोई रेलगाड़ी किसी स्थिर खंभे (स्टेशनरी पोल) को 3 मिनट में पार करती है। वह 600 मीटर लंबे प्लेटफॉर्म को 5 मिनट में पार करती है। रेलगाड़ी की लंबाई तथा गति कितनी है?

- Ans
- 1. 3600 m, 18 km/h
  - 2. 900 m, 18 km/h

3. 900 m, 15 km/h

4. 1200 m, 15 km/h

Question ID : 239087841

Status : Answered

Chosen Option : 2

Q.20 एक व्यक्ति A से B तक 30 km/h की गति से जाता है। वह B से A तक 20 km/h की गति से वापस लौट आता है। पूरी यात्रा में उसकी औसत गति कितनी है?

Ans  1. 26.5 km/h

2. 24 km/h

3. 25 km/h

4. 27.5 km/h

Question ID : 239087842

Status : Answered

Chosen Option : 2

Q.21 तीन कक्षाओं में विद्यार्थियों का अनुपात 3 : 4 : 5 है। यदि प्रत्येक कक्षा में 20 छात्र बढ़ा दिये जाते हैं तो अनुपात बदलकर 4 : 5 : 6 हो जाता है। तीनों कक्षाओं को मिलाकर उनमें छात्रों की आरंभिक संख्या कितनी है?

Ans  1. 280

2. 240

3. 320

4. 300

Question ID : 239087834

Status : Answered

Chosen Option : 2

Q.22 किसी षटभुज की भुजा 4 cm है। किसी वर्ग की भुजा  $4\sqrt{2}$  cm है। उनके क्षेत्रफल का अनुपात कितना है?

Ans  1.  $3\sqrt{3} : 2$

2.  $2\sqrt{3} : 1$

3.  $3\sqrt{3} : 4$

4.  $\sqrt{3}/2 : 1$

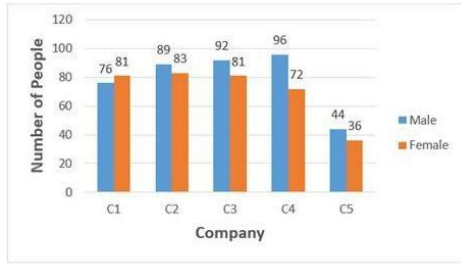
Question ID : 239087845

Status : Answered

Chosen Option : 3

Q.23

नीचे दिया गया दंड आरेख पाँच विभिन्न कंपनियों में कार्य करने वाले पुरुषों तथा महिलाओं की संख्या को दर्शाता है।



कार्य करने वाली महिलाओं की प्रति कंपनी औसत संख्या कितनी है?

- Ans
- 1. 71.8
  - 2. 74.6
  - 3. 72.2
  - 4. 70.6

Question ID : 239087847

Status : Answered

Chosen Option : 4

Q.24 यदि  $A = 8 \div 4 \times (3 - 1) + 6 \times 3 \div 2$  of 3 तथा  $B = 4 \div 8 \times 2 + 7 \times 3$  है, तो  $A + B$  का मान कितना है?

- Ans
- 1. 29
  - 2. 31
  - 3. 33
  - 4. 35

Question ID : 239087826

Status : Answered

Chosen Option : 1

Q.25 दो संख्याओं का योग 77 है तथा उनका अनुपात 6 : 5 है। उनका अंतर कितना है?

- Ans
- 1. 4
  - 2. 6
  - 3. 7
  - 4. 5

Question ID : 239087836

Status : Answered

Chosen Option : 3

Section : General awareness

Q.1 जुलाई 2019 में, "नानालखतम" से इस शहर को यूनेस्को (UNESCO) के द्वारा "वरासत सूची" में शामिल किया गया है?

- Ans
- 1. ओरछा
  - 2. अहमदाबाद
  - 3. हैदराबाद

✓ 4. जयपुर

Question ID : 239087574  
Status : Answered  
Chosen Option : 4

Q.2 15व" ढवU आयोग कः अयुगता ढकसने कः?

- Ans
- 1. वई वी रेी
  - 2. एन केYसह
  - 3. अढमताभ कांत
  - 4. उढजत पटेल

239087584  
Question ID : Answered  
Status : 2  
Chosen Option :

Q.3 ढन'नढलढखत म" से कौन-सा यु'म सही है?

- Ans
- 1. केवलादेव घना राढीय उQान-असम
  - 2. ढगर राढीय उQान-महाराढ
  - 3. नंदादेवी राढीय उQान-उकर Pदेश
  - 4. 5ेट ढहमालयन राढीय उQान-ढहमाचल Pदेश

Question ID : 239087593  
Status : Marked For Review  
Chosen Option : 3

Q.4 ढन'नढलढखत म" से ढकसको 'वेदांत' कहा जाता है?

- Ans
- 1. वेदांग
  - 2. #ाण
  - 3. उपढनषद
  - 4. अर6यक

Question ID : 239087598  
Status : Marked For Review  
Chosen Option : 3

Q.5 ढन'नढलढखत म" से ढकस राuय म" भारत कः सबसे लंबी तट रेखा है?

- Ans
- 1. महाराढ
  - 2. गोवा
  - 3. आंN Pदेश
  - 4. तढमलनाडु

Question ID : 239087595  
Status : Answered  
Chosen Option : 3

Q.6 Who is the Leader of the House in the Seventeenth Lok Sabha?

- Ans
- 1. Amit Shah
  - 2. Rajnath Singh

✓ 3. Narendra Modi

✗ 4. Sushil Kumar Shinde

Question ID : 239087585

Status : Answered

Chosen Option : 3

Q.7 'नलखत म' से भारत क कौन-सी भाषा अनुसूचित भाषा नहऱ है?

Ans ✓ 1. राजथानी

✗ 2. Yसधी

✗ 3. मणपुरी

✗ 4. बोडो

Question ID : 239087587

Status : Marked For Review

Chosen Option : 1

Q.8 रावादऱ काँसे पाटा का गठन ढकस वष' म' ढकया गया था?

Ans ✓ 1. 1999

✗ 2. 1992

✗ 3. 1980

✗ 4. 1984

Question ID : 239087596

Status : Marked For Review

Chosen Option : 3

Q.9 मोहनजोदडो ढकस नदऱ के तट पर ढथत है?

Ans ✗ 1. सरवती

✗ 2. रावी

✗ 3. घगर

✓ 4. Yसधु

Question ID : 239087597

Status : Answered

Chosen Option : 4

Q.10 'ोणाचाय' पुरकार ढकस ढेफ से संबधत है?

Ans ✗ 1. ढशाा

✗ 2. नूडय

✗ 3. संगीत

✓ 4. खेल

Question ID : 239087578

Status : Answered

Chosen Option : 4

Q.11 'नलखत ढवकपा म' से कौन-सा धातु नही है?



- Ans
- 1. कॉपर
  - 2. आयरन
  - 3. इटन
  - 4. सेलेनियम

Question ID : 239087589  
Status : Answered  
Chosen Option : 4

Q.12 'नैनलखत म' से इकस देश क सीमा भारत के साथ नहल ललह

- Ans
- 1. नेपाल
  - 2. ईरान
  - 3. यामार
  - 4. बांलादेश

Question ID : 239087594  
Status : Answered  
Chosen Option : 2

Q.13 'हल पौराणक कथान के संदभ', 'नैनलखत म' से कौन-सा इवक उप भगवान इवरणु के दस अवतार म से एक नहल है?

- Ans
- 1. गवड़
  - 2. मइय
  - 3. कूम
  - 4. वाराह

Question ID : 239087575  
Status : Answered  
Chosen Option : 3

Q.14 इवणु एड स इदवस कब मनाया जाता है?

- Ans
- 1. 8 मार्च
  - 2. 1 इदसंबर
  - 3. 5 जून
  - 4. 1 नवंबर

Question ID : 239087590  
Status : Answered  
Chosen Option : 2

Q.15 भारत म 'पंचवषाय योजना इकस वष म' शुव क गई थी?

- Ans
- 1. 1958
  - 2. 1951
  - 3. 1955
  - 4. 1947

Question ID : 239087582  
Status : Answered

Chosen Option : 2

Q.16 'नखत म' से कसे लोकक के नाम से जाना जाता है?

- Ans
- 1. अटल बहारी वाजपेयी
  - 2. जयकाश नारायण
  - 3. ए. पी. जे. अल कलाम
  - 4. राजीव गांधी

Question ID : 239087579

Status : Answered

Chosen Option : 2

Q.17 Which organization publishes 'World Development Report'?

- Ans
- 1. United Nations Development Programme (UNDP)
  - 2. World Economic Forum
  - 3. International Monetary Fund (IMF)
  - 4. World Bank

Question ID : 239087583

Status : Marked For Review

Chosen Option : 1

Q.18 Which award is often referred to as the 'Nobel Prize of architecture'? Ans

- 1. Pritzker prize
- 2. Jawaharlal Nehru prize
- 3. Ramon Magsaysay
- 4. Abel prize

Question ID : 239087581

Status : Answered

Chosen Option : 4

Q.19 संवधान का कौन-सा भाग संवधान - संशोधना से संबंधित है?

- Ans
- 1. भाग XV
  - 2. भाग X
  - 3. भाग VIII
  - 4. भाग XX

Question ID : 239087586

Status : Not Answered

Chosen Option : --

Q.20 'नखत म' से कस भारतीय को नोबल पुरकार से सानत नहा कया गया है?

- Ans
- 1. महामा गांधी
  - 2. कैलाश सयाथ
  - 3. हरगोबद खुराना
  - 4. रबनाथ टैगोर

Question ID : 239087580  
Status : Marked For Review  
Chosen Option : 1

Q.21 'नॉबलप्रिखतत' से इकस सुडु को सबसे कम आयुत नोबेल पुरसकार से सतडनत इकया गयत

- Ans
- 1. इवलडलयत लॉरस डेग
  - 2. डेस वलटसन
  - 3. डेरी ड्यूरी
  - 4. केनेथ एरो

Question ID : 239087592  
Status : Not Answered  
Chosen Option : --

Q.22 डसल तैरलक डलडकल डेडस से संबडधत डै।

- Ans
- 1. ऑडडेलया
  - 2. नॉव
  - 3. इवडडरलड
  - 4. अडेडरका

Question ID : 239087577  
Status : Answered  
Chosen Option : 4

Q.23 The branch of medical science that deals with kidneys is known as: Ans

- 1. Ophthalmology
- 2. Cardiology
- 3. Otorhinolaryngology
- 4. Nephrology

Question ID : 239087591  
Status : Answered  
Chosen Option : 4

Q.24 डडलरल रलडगलन 'डन गण डन' इकस डलषल से अडनलडल गलड डै?

- Ans
- 1. इडडड
  - 2. डरलठत
  - 3. असडडडल
  - 4. डललल

Question ID : 239087576  
Status : Answered  
Chosen Option : 4

Q.25 सोने कल डतीक डडल

- डै? Ans
- 1. Mg
  - 2. Hg
  - 3. Ag

