

# Multi Tasking (Non-Technical) Staff Examination 2019

Roll No.	
Registration No.	
Name	SSC MTS
Test Venue	iON Digital Zone iDZ 1 Odhav
Test Time	9:00 AM - 10:30 AM
Test Date	06/08/2019

Section : General English

Q.1 Choose the most appropriate word that can substitute the given group of words.

The highest point

- Ans
- 1. Horizon
  - 2. Paradise
  - 3. Zenith
  - 4. Nadir

Question ID : 239087946

Status : Not Answered

Chosen Option : --

Select the most appropriate meaning of the given idiom.

Out of date

- Ans
- 1. Being careless
  - 2. Something old fashioned
  - 3. A worthless fellow
  - 4. A date seed
  -

Question ID : 239087944

Status : Answered

Chosen Option : 2

Q.3 Select the most appropriate antonym of the given word.

Cautious

- Ans
- 1. Discreet
  - 2. Negligent
  - 3. Prudent
  - 4. Alert

Question ID : 239087941

Status : Answered

Chosen Option : 2

Q.4 Select the most appropriate option to fill in the blank.

There is no \_\_\_\_\_ in the container for the water to flow.

- Ans
- 1. link

2. outlet

3. room

4. escape

Question ID : 239087950

Status : Answered

Chosen Option : 4

Q.5 Select the most appropriate option to fill in the blank.

The incident made a \_\_\_\_\_ impression on Karan.

Ans  1. factual

2. rounded

3. perfect

4. deep

Question ID : 239087949

Status : Answered

Chosen Option : 3

**Comprehension:**

In the following passage some words have been deleted. Fill in the blanks with the help of the alternatives given. Select the most appropriate option for each blank.

The quick thinking of an animal lover saved (1) \_\_\_\_\_ life of a turtle who had (2) \_\_\_\_\_ a fishing hook and a safety pin. The female turtle was (3) \_\_\_\_\_ on the streets of Mumbai by the animal lover, (4) \_\_\_\_\_ took it to a vet. An X-ray (5) \_\_\_\_\_ the presence of sharp objects in its stomach. The turtle was operated upon successfully.

**SubQuestion No : 6**

Q.6 Select the most appropriate option for blank No. 1. Ans

1. one

2. the

3. an

4. a

Question ID : 239087934

Status : Answered

Chosen Option : 2

**Comprehension:**

In the following passage some words have been deleted. Fill in the blanks with the help of the alternatives given. Select the most appropriate option for each blank.

The quick thinking of an animal lover saved (1) \_\_\_\_\_ life of a turtle who had (2) \_\_\_\_\_ a fishing hook and a safety pin. The female turtle was (3) \_\_\_\_\_ on the streets of Mumbai by the animal lover, (4) \_\_\_\_\_ took it to a vet. An X-ray (5) \_\_\_\_\_ the presence of sharp objects in its stomach. The turtle was operated upon successfully.

**SubQuestion No : 7**

Q.7 Select the most appropriate option for blank No. 2. Ans

1. absorbed

2. feasted

3. drowned

4. swallowed

Question ID : 239087935  
Status : Not Answered  
Chosen Option : --

**Comprehension:**

In the following passage some words have been deleted. Fill in the blanks with the help of the alternatives given. Select the most appropriate option for each blank.

The quick thinking of an animal lover saved (1)\_\_\_life of a turtle who had (2)\_\_\_\_\_a fishing hook and a safety pin. The female turtle was (3)\_\_\_\_\_on the streets of Mumbai by the animal lover, (4)\_\_\_\_\_took it to a vet. An X-ray (5)\_\_\_\_\_the presence of sharp objects in its stomach. The turtle was operated upon successfully.

**SubQuestion No : 8**

**Q.8 Select the most appropriate option for blank No. 3. Ans**

- 1. finds
- 2. find
- 3. finding
- 4. found

Question ID : 239087936  
Status : Answered  
Chosen Option : 4

**Comprehension:**

In the following passage some words have been deleted. Fill in the blanks with the help of the alternatives given. Select the most appropriate option for each blank.

The quick thinking of an animal lover saved (1)\_\_\_life of a turtle who had (2)\_\_\_\_\_a fishing hook and a safety pin. The female turtle was (3)\_\_\_\_\_on the streets of Mumbai by the animal lover, (4)\_\_\_\_\_took it to a vet. An X-ray (5)\_\_\_\_\_the presence of sharp objects in its stomach. The turtle was operated upon successfully.

**SubQuestion No : 9**

**Q.9 Select the most appropriate option for blank No. 4. Ans**

- 1. who
- 2. whose
- 3. whom
- 4. which

Question ID : 239087937  
Status : Answered  
Chosen Option : 1

**Comprehension:**

In the following passage some words have been deleted. Fill in the blanks with the help of the alternatives given. Select the most appropriate option for each blank.

The quick thinking of an animal lover saved (1)\_\_\_life of a turtle who had (2)\_\_\_\_\_a fishing hook and a safety pin. The female turtle was (3)\_\_\_\_\_on the streets of Mumbai by the animal lover, (4)\_\_\_\_\_took it to a vet. An X-ray (5)\_\_\_\_\_the presence of sharp objects in its stomach. The turtle was operated upon successfully.

**SubQuestion No : 10**

**Q.10 Select the most appropriate option for blank No. 5. Ans**

- 1. revealed
- 2. covered
- 3. protected

 4. concealed

Question ID : 239087938  
Status : Answered  
Chosen Option : 1

Q.11 Select the most appropriate option to fill in the blank.




He is a descendant \_\_\_\_\_ the Mughal royalty.

- Ans
-  1. for
  -  2. of
  -  3. in
  -  4. to

Question ID : 239087932  
Status : Answered  
Chosen Option : 4

Q.12 Select the most appropriate option to substitute the underlined segment in the given sentence. If there is no need to substitute it, select No Improvement.

Only me can solve the problem.

- Ans
- 1. Only I can
  -  2. Me can only
  -  3. No Improvement
  -  4. Only me could

Question ID : 239087928  
Status : Answered  
Chosen Option : 1





Q.13 Choose the correctly spelt word.

- Ans
- 1. Jelousy
  -  2. Corupt
  -  3. Intrest
  -  4. Miniature

Question ID : 239087948  
Status : Answered  
Chosen Option : 2

Q.14 Select the most appropriate synonym of the given word.

Obvious

- Ans
-  1. Vague
  -  2. Various
  -  3. Flexible
  -  4. Evident

Question ID : 239087939  
Status : Answered  
Chosen Option : 4

Q.15 Choose the most appropriate word that can substitute the given group of words.

One who can't speak

- Ans
- 1. Bevy
  - 2. Quiet
  - 3. Orphan
  - 4. Dumb

Question ID : 239087945

Status : Not Answered

Chosen Option : --

Q.16 Select the most appropriate synonym of the given word.

Optimist

- Ans
- 1. Critic
  - 2. Distinct
  - 3. Pessimist
  - 4. Idealist

Question ID : 239087940

Status : Not Answered

Chosen Option : --

Q.17 Select the most appropriate option to substitute the underlined segment in the given sentence. If there is no need to substitute it, select No Improvement.

When the little girl loses her doll, she began to cry.

- Ans
- 1. loss her doll
  - 2. No Improvement
  - 3. losing her doll
  - 4. lost her doll

Question ID : 239087929

Status : Answered

Chosen Option : 1

Q.18 Choose the correctly spelt word.

- Ans
- 1. Peirce
  - 2. Inividual
  - 3. Extract
  - 4. Luxeuries

Question ID : 239087947

Status : Answered

Chosen Option : 3

Q.19 Find the part of the given sentence that has an error in it. If there is no error, choose 'No error'.

Pallavi is the cleverest of the two sisters. /No error

Ans

- 1. of the two sisters
- 2. Pallavi is
- 3. the cleverest
- 4. No error

Question ID : 239087926  
Status : Answered  
Chosen Option : 1

Q.20 Find the part of the given sentence that has an error in it. If there is no error, choose 'No error'.

Either of the two books will met my requirement. /No error

- Ans
- 1. Either of the
  - 2. No error
  - 3. will met my requirement
  - 4. two books

Question ID : 239087927  
Status : Answered  
Chosen Option : 3

Q.21 Select the most appropriate meaning of the given idiom.

As a matter of fact

- Ans
- 1. Actually as it happens
  - 2. To seize a good opportunity
  - 3. To forgive and forget
  - 4. Just at the last moment

Question ID : 239087943  
Status : Answered  
Chosen Option : 1

Q.22 Select the most appropriate antonym of the given word.

Tranquil

- Ans
- 1. Calm
  - 2. Peaceful
  - 3. Cool
  - 4. Stormy

Question ID : 239087942  
Status : Answered  
Chosen Option : 4

Q.23 Select the most appropriate option to fill in the blank.

He \_\_\_\_\_ done it.

- Ans
- 1. should have been
  - 2. shouldn't have

3. should had not

4. should not had

Question ID : 239087931

Status : Answered

Chosen Option : 2

Q.24 Select the most appropriate option to substitute the underlined segment in the given sentence. If there is no need to substitute it, select No Improvement.

Mr. Kansal has been living in Delhi since 10 years.

Ans  1. until

2. for

3. No Improvement

4. from

Question ID : 239087930

Status : Answered

Chosen Option : 3

Q.25 Find the part of the given sentence that has an error in it. If there is no error, choose 'No error'.

My brother brought a few rice while coming from the market. /No error

Ans  1. No error

2. My brother brought

3. a few rice while

4. coming from the market

Question ID : 239087925

Status : Answered

Chosen Option : 2

Section : General Intelligence & Reasoning

Q.1 नीचे दिए गए क्रम में से उस संख्या को चुनिए जो इन संख्याओं के अंतरों का अनुपात बनाए।  
3, 7, 22, 89, ?

Ans  1. 452

2. 446

3. 448

4. 440

Question ID : 239087687

Status : Answered

Chosen Option : 2

Q.2 छः अक्षरों K, M, O, Q, S तथा U के अक्षरों को एक वृत्त के चारों ओर घड़ी की सुई की दिशा में घुमाया गया है।  
ह (जैसी नहीं है)। Q, U के बायाँ ओर है। S, M के तुरंत बायाँ ओर है। K, O के दायाँ ओर है। O, Q के तुरंत दायाँ ओर है। O के बायाँ ओर है। सरे 5थान पर कौन सा अक्षर खड़ा किया गया है?

Ans  1. M

2. K

3. S

4. U

Question ID : 239087683

Status : Not Answered

Chosen Option : --

Q.3 नीचे दिए गए #AE म" कुछ कथन और उनके बाद उन कथन पर आधारित कुछ विकल्प दिए गए ह"। दिए गए कथन को सही मानते (ए, चाहे वे सामान्य Vप से) तब त"या से विकल्प #तीत होते हा, सभी विकल्पों को ध्यान देकर विकल्पों पर क"र्तव्य है। कथन का तात्पर्य Wप से अनुसरण करता/करते ह"।

कथन:

I. कोई साइकल ह"डल नहीं है।

II. कु छ ह"डल टायर ह"।

विकल्प:

I. कोई टायर साइकल नहीं ह"।

II. कु छ टायर ह"डल ह"।

III. कु छ साइकल ह"डल ह"।

Ans  1. दोन" विकल्प II तथा III अनुसरण करते ह"।

2. दोन" विकल्प I तथा II अनुसरण करते ह"।

3. के वल विकल्प III अनुसरण करता है।

4. के वल विकल्प II अनुसरण करता है।

Question ID : 239087685

Status : Answered

Chosen Option : 2

Q.4 एक विशिष्ट कूट भाषा म", 'RIGHT' को '98653' लिखा जाता है, 'CLERK' को '04297' लिखा जाता है। कूट भाषा म" 'GREET' का कोड क्या होगा?

Ans 1. 69223

2. 69227

3. 69330

4. 69332

Question ID : 239087680

Status : Answered

Chosen Option : 1

Q.5 निम्नलिखित विकल्पों म" से उस अक्षर युग्म को चुनिए, जो निम्नलिखित संबंध है, जो नीचे दिए गए अक्षर युग्म म" है।

RP : SQ :: ?

Ans  1. JL : IK

2. KG : LH

3. MA : NZ

4. RV : QW

Question ID : 239087677

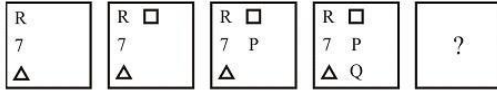
Status : Answered

Chosen Option : 2

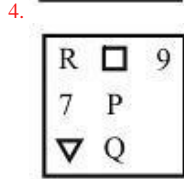
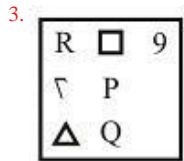
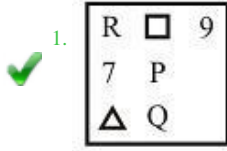
Q.6



निम्नलिखित प्रश्न में, दिए गए विकल्पों में से प्रश्न चिह्न (?) के स्थान पर आने वाली आकृति को चुनिए।



Ans



Question ID : 239087693

Status : Answered

Chosen Option : 1

Q.7 नीचे दिए गए #AE म, कु छ कथन और उनके बाद उन कथना पर आधारित कु छ ङनरकष' ङदए गए ह\*। ङदए गए कथना को सही मानते \ए, चाहे वे सामा=य Vप से Jात त\*या से ङभU #तीत होते हा, सभी ङनरकषा को पडदए और ङफर ङनधा' ङरत कतङजए ङक ङदए गए कौन से/सा ङनरकष', कथना का ताFकक Wप से अनुसरण करता/करते ह\*।

कथन:

- I. कु छ भूङम स"त है।
  - II. कोई स"त गम' नह" है।
- ङनरकष':

- I. कु छ गम' भूङम है।
- II. कु छ स"त भूङम ह\*।

- Ans 1. केवल ङनरकष' II अनुसरण करता है।
2. कोई भी ङनरकष' अनुसरण नह? करता है।
3. केवल ङनरकष' I अनुसरण करता है।
4. दोना ङनरकष' I तथा II अनुसरण करतेह\*।

Question ID : 239087686

Status : Answered

Chosen Option : 2

Q.8

यदि एक दर्पण को AB रेखा पर रखा जाए, तो दी गई उत्तर आकृतियों में से कौन सी आकृति प्रश्न आकृति की सही छवि होगी?



Ans

✗ 1.



✓ 2.



✗ 3.



4.



Question ID : 239087696

Status : Answered

Chosen Option : 2

Q.9 वह आरेख चुनिए जो नीचे दिए गए वर्गों के बीच के संबंध का सही निरूपण करता है।

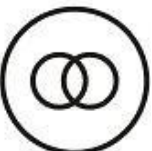
रंग, लाल, पीला

Ans

✗ 1.




✗ 2.



✓ 3.





Question ID : 239087698  
Status : Answered  
Chosen Option : 3

Q.10 नीचे दिये गए ढचा को पर5पर बदलने पर,  $16 + 19 \times 51 \div 153 - 12$  का मान फ्या होगा?

× तथा ÷

- Ans
- 1. 57
  - 2. 61
  - 3. 51
  - 4. 63

Question ID : 239087691  
Status : Not Answered  
Chosen Option : --

Q.11 उस ढवकप का चयन कर" जो तीसरे शब्द से उसी तरह से संबंढधत है जैसे \सरा शब्द पहले शब्द से संबंढधत है।

अध्याय : ढकताब :: हडल : ?

- Ans
- 1. #क
  - 2. साइकल
  - 3. पैडल
  - 4. गोल

Question ID : 239087675  
Status : Answered  
Chosen Option : 2

Q.12 Select the option that is related to the third term in the same way as the second term is related to the first term.

Office : Clerk :: Site : ?

- Ans
- 1. Servant
  - 2. Shopkeeper
  - 3. Teacher
  - 4. Engineer

Question ID : 239087676  
Status : Answered  
Chosen Option : 1


Q.13 एक ढवशऱ कूट भाषा म", 'GARAGE' को 'JEUEJI' ढलखा जाता है। उसी कूट भाषा म" 'OFFICE' का कोड ढोगा?

- Ans
- 1. JKJNGJ
  - 2. RKIMFI
  - 3. JLJNGJ

✓ 4. RJIMFI

Question ID : 239087678  
Status : Answered  
Chosen Option : 4

Q.14 दिए गए पैटर्न का ध्यानपूर्वक अध्ययन कीजिए और उस आकृति को चुनिए जो प्रश्न आकृति में दिये गए पैटर्न को पूरा करेगी।



Ans

- ✗ 1.
- ✗ 2.
- ✓ 3.
- 4.

Question ID : 239087694  
Status : Answered  
Chosen Option : 3

Q.15 नीचे एक ऋंखला दी गयी है, 'जसम' से एक अक्षर युग्म नहीं दिया गया है। दिए गए विकल्पों में से वह सही चुनिए, जो ऋंखला को पूरा करे।

ML, RQ, WV, BA, ?

- Ans
1. HE
- ✓ 2. GF
- ✗ 3. GE
- ✗ 4. HF

Question ID : 239087674  
Status : Answered  
Chosen Option : 2

Q.16 निम्नलिखित प्रश्न में, दिए गए विकल्पों में से उस संख्या को चुनें जो प्रश्न चिह्न (?) के स्थान पर आएगी।

7 8 4 18  
2 3 9 13  
5 6 8 ?

- Ans
- ✗ 1. 15
- ✓ 2. 18
- ✗ 3. 17
- ✗ 4. 21

Question ID : 239087690

Status : Answered  
Chosen Option : 2

Q.17 एक वलशकूट भाषा म, 'FOSSIL' को 'KHRRE' वलखा जाता है। उसी कूट भाषा म 'FUNGAL' का कोड व्होगा?

- Ans  1. KZFMTE  
 2. KAFMTE  
 3. LAGMUF  
 4. LAGNUF

Question ID : 239087679  
Status : Not Answered  
Chosen Option : --

Q.18 उस वलकवक का चयन कर जो तीसरी संया से उसी तरह से संबधत है जैसे सरी संया पहली संया से संबधत है।

18 : 323 :: 38 : ?

- Ans  1. 1339  
 2. 1443  
 3. 1449  
 4. 1331

Question ID : 239087689  
Status : Answered  
Chosen Option : 2

Q.19 छः अयाक A, D, G, J, M तथा P के क ओर मुख करके एक वृाकार मेज के इद-वगद वठे ए हल नहं वक वे इसी उम म हो। M, G के बायां ओर तीसरा है। D, J के तुरंत बायां ओर है। A, M के तुरंत बायां ओर है।

वद हम P से घडी क सूई क वदशा मे गणना करते ह, तो P तथा J के मय वकतने अयाक वठे ए ह?

- Ans  1. 4  
 2. 2  
 3. 1  
 4. 3

Question ID : 239087682  
Status : Not Answered  
Chosen Option : --

Q.20 नीचे वदए गए दो वचा को परपर बदलने पर वनवलखत म से कौन सा समीकरण सही वोगा?

× तथा +

- Ans  1.  $13 - 12 \times 5 + 11 = 46$   
 2.  $4 + 9 \times 11 \div 3 = 37$   
 3.  $11 \times 6 \div 18 + 54 = 29$   
 4.  $6 \times 11 + 13 \div 11 = 17$

Question ID : 239087692  
Status : Not Answered  
Chosen Option : --

Q.21 पाँच वस्तुएँ A, K, P, R तथा T एक के ऊपर एक रखी गयी हैं (जवरी नहीं। Bक वे इसी उम म" हो)। K तथा P के मध्य केवल T है। P, K के नीचे है। R, P के ठीक नीचे है। A, T से तीन स्थान नीचे है। कौन सी वस्तु सबसे नीचे है

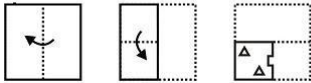
- Ans
- 1. T
  - 2. P
  - 3. R
  - 4. A

Question ID : 239087684

Status : Answered

Chosen Option : 4

Q.22 नीचे दी गयी प्रश्न आकृतियों में दिखाए अनुसार कागज के एक टुकड़े को मोड़ा जाता है और छेद किया जाता है। जब इसको खोला जाएगा तो वह दी गयी उत्तर आकृतियों में से किसके जैसा दिखाई देगा?



Ans

- 1.
- 2.
- 3.
- 4.

Question ID : 239087697

Status : Answered

Chosen Option : 4

Q.23 एक अव्यंश कूट भाषा में, 'POEM' को '1351516' लिखा जाता है, 'ROB' को '21518' लिखा जाता है। कूट भाषा में 'MAID' का कोड क्या होगा?

- Ans
- 1. 13195
  - 2. 49113
  - 3. 59146
  - 4. 13194

Question ID : 239087681

Status : Answered

Chosen Option : 4

Q.24 नीचे दिए गए संख्या माला में से उस संख्या को चुनिए जो 307, 303, 299, 295, ?

307, 303, 299, 295, ?

Ans  1. 291

2. 293

3. 287

4. 289

Question ID : 239087688

Status : Answered

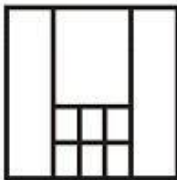
Chosen Option : 1

Q.25 दी गई उत्तर आकृतियों में से, उस उत्तर आकृति को चुनिए जिसमें नीचे दी गई प्रश्न आकृति समाहित/अन्तर्निहित है।




Ans

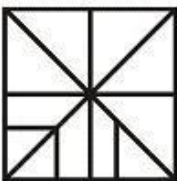
1.




2.



3.



4.



Question ID : 239087695

Status : Answered

Chosen Option : 1

Section : Numerical Aptitude

Q.1 किसी वर्ग की अंतःत्रिज्या (inradius) तथा परित्रिज्या (circumradius) का अनुपात कितना है?

Ans  1. 1 : 2

2.  $\sqrt{2} : 3$

3. 1 : 3

4. 1 :  $\sqrt{2}$

Question ID : 239087820  
Status : Not Answered  
Chosen Option : --

Q.2 यदि  $x + y = 52$  तथा  $x - y = 20$  है, तो  $x : y$  का मान कितना है?

- Ans
- 1. 3 : 2
  - 2. 3 : 4
  - 3. 9 : 4
  - 4. 7 : 5

Question ID : 239087809  
Status : Answered  
Chosen Option : 3

Q.3  $\frac{7}{16}, \frac{21}{32}$  तथा  $\frac{49}{8}$  का महत्तम समापवर्तक (एच सी एफ) कितना है?

pdfinbox.in

- Ans
- 1.  $\frac{7}{64}$
  - 2.  $\frac{147}{32}$
  - 3.  $\frac{147}{8}$
  - 4.  $\frac{7}{32}$

Question ID : 239087799  
Status : Answered  
Chosen Option : 4

Q.4 A तथा B की मासिक आय क्रमशः ₹12000 तथा ₹8000 है। उनके मासिक व्यय का अनुपात 5 : 3 है। यदि वे प्रति माह समान राशि बचाते हैं, तो उनमें से प्रत्येक हर माह कितनी राशि बचाता है?

- Ans
- 1. ₹2000
  - 2. ₹1500
  - 3. ₹800
  - 4. ₹1000

Question ID : 239087811  
Status : Answered  
Chosen Option : 1

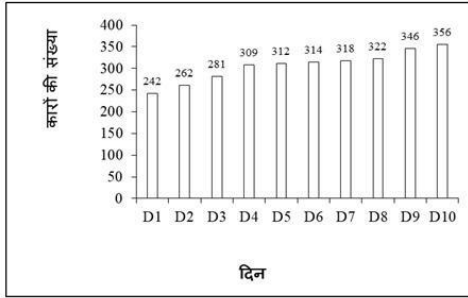
Q.5 यदि  $x + y + z = 360$  तथा  $x : y : z = 4 : 3 : 2$  है, तो  $y + z - x$  का मान कितना है?

- Ans
- 1. 80
  - 2. 60
  - 3. 30
  - 4. 40

Question ID : 239087810  
Status : Answered



Q.6 नीचे दिया गया दंड आरेख किसी पार्किंग क्षेत्र में दस अलग-अलग दिनों में खड़ी कारों की संख्या को दर्शाता है।



Ans  1. 41 खड़ी कारों की संख्या का अंतर कितना है?

2. 45

3. 37

4. 33

Question ID : 239087823

Status : Answered

Chosen Option : 1

Q.7 किसी मूलधन पर 5% वार्षिक ब्याज की दर से 2 वर्षों के साधारण ब्याज तथा चक्रवृद्धि ब्याज का अंतर ₹25 है। मूलधन कितना है?

Ans  1. ₹10000

2. ₹15000

3. ₹12000

4. ₹5000

Question ID : 239087812

Status : Answered

Chosen Option : 1

Q.8 किसी वस्तु को 20% लाभ पर तथा 18% हानि पर बेचने पर विक्रय मूल्य का अंतर ₹570 है। यदि इसे 12% हानि पर बेचा जाए, तो वस्तु का विक्रय मूल्य कितना होगा?

Ans  1. ₹1760

2. ₹1540

3. ₹1320

4. ₹1650

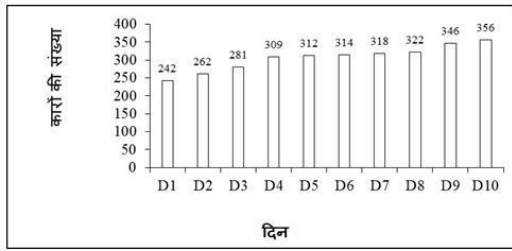
Question ID : 239087807

Status : Not Answered

Chosen Option : --

Q.9

नीचे दिया गया दंड आरेख किसी पार्किंग क्षेत्र में दस अलग-अलग दिनों में खड़ी कारों की संख्या को दर्शाता है।



पार्किंग क्षेत्र में सभी 10 दिनों में खड़ी कारों की कुल संख्या कितनी है?

- Ans
- 1. 3882
  - 2. 3462
  - 3. 3062
  - 4. 3862

Question ID : 239087822

Status : Answered

Chosen Option : 3

Q.10 X किसी कार्य को अकेला 15 दिन में कर सकता है। Y उसी कार्य को अकेला 30 दिन में कर सकता है। X, Y तथा Z एक साथ मिलकर उस कार्य को 9 दिन में कर सकते हैं। Z उस कार्य को अकेला कितने दिन में कर सकता है?

- Ans
- 1. 120
  - 2. 90
  - 3. 45
  - 4. 60

Question ID : 239087815

Status : Answered

Chosen Option : 2

Q.11 ₹3000 की राशि को 20% प्रतिवर्ष के चक्रवृद्धि ब्याज दर (वार्षिक रूप से संयोजित) पर निवेश किया गया है। 2 वर्षों का चक्रवृद्धि ब्याज कितना है?

- Ans
- 1. ₹1360
  - 2. ₹1200
  - 3. ₹1320
  - 4. ₹1440

Question ID : 239087813

Status : Answered

Chosen Option : 3

Q.12 किसी बेलन (सिलेंडर) का वक्र पृष्ठ क्षेत्रफल  $25344 \text{ cm}^2$  है तथा उसकी ऊँचाई 32 cm है। उस बेलन (सिलेंडर) का आयतन कितना है जिसकी धारिता दिए गए बेलन (सिलेंडर) के आयतन की  $\frac{\pi}{792}$  गुनी है?

- Ans
- 1.  $3168 \text{ cm}^3$
  - 2.  $6336 \text{ cm}^3$
  - 3.  $1584 \text{ cm}^3$

4.  $9504 \text{ cm}^3$

Question ID : 239087818

Status : Not Answered

Chosen Option : --

Q.13  $\frac{39 \div 26 + 22 \div 11 \times 2 + 4 \times 3}{2 \text{ of } 5 - 3(7 + 10 \div 2 - 3 \times 3)}$  का मान कितना है?

Ans

1.  $\frac{61}{2}$   
 2.  $\frac{49}{2}$   
 3.  $\frac{39}{2}$   
 4.  $\frac{35}{2}$

Question ID : 239087801

Status : Not Answered

Chosen Option : --

Q.14 किसी वस्तु का लागत मूल्य ₹1800 है। यदि लाभ 32% है, तो विक्रय मूल्य कितना है?

Ans

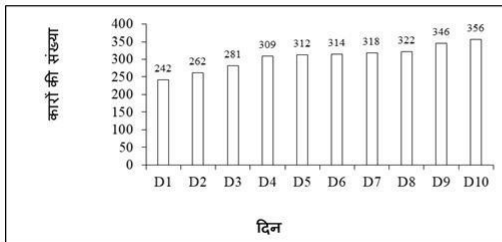
1. ₹2288  
 2. ₹2376  
 3. ₹2456  
 4. ₹2496

Question ID : 239087808

Status : Answered

Chosen Option : 2

Q.15 नीचे दिया गया दंड आरेख किसी पार्किंग क्षेत्र में दस अलग-अलग दिनों में खड़ी कारों की संख्या को दर्शाता है।



Ans D1 से अधिक 57.11% D1 में खड़ी कारों की संख्या से कितनी प्रतिशत (दो दशमलव स्थान तक) अधिक है?

1. 57.11%  
 2. 52.11%  
 3. 42.11%  
 4. 47.11%


Question ID : 239087821

Status : Answered

Chosen Option : 3

Q.16 नीचे दिए गए आँकड़े में छक्कों की संख्या तथा उन्हें जड़ने वाले बल्लेबाजों की संख्या को दिखाया गया है।

छक्कों की संख्या	बल्लेबाजों की संख्या
1	2
2	3
3	1
4	3
5	2

Ans छ  की 3 <sup>व्या</sup> की माध्यिका कितनी है?

 2. 5

 3. 4

 4. 4.5

Question ID : 239087805

Status : Answered

Chosen Option : 1

Q.17 किसी वस्तु पर 20% की छूट देने के पश्चात् कोई दुकानदार 30% का लाभ कमाता है। अंकित मूल्य, लागत मूल्य का कितना प्रतिशत है?

Ans 1. 122.5%

 2. 137.5%

 3. 150%

 4. 162.5%

Question ID : 239087804

Status : Answered

Chosen Option : 2

Q.18 एक वर्ग का विकर्ण 24 cm है। उसका परिमाण कितना है?

Ans  1. 28 cm

2.  $48\sqrt{2}$  cm

3.  $36\sqrt{2}$  cm

4.  $46\sqrt{2}$  cm

Question ID : 239087819

Status : Answered

Chosen Option : 2

Q.19  $(24 + 16 \times 5 - 8 \text{ of } 4) \div 84 \times 48 \div 24 \times 6 + 4 + 3$  का मान कितना है?

Ans  1.  $\frac{139}{3}$

2.  $\frac{156}{5}$

3.  $\frac{121}{7}$

4.  $\frac{56}{3}$

Question ID : 239087800  
Status : Answered  
Chosen Option : 1

Q.20 A, B से 15% अधिक है। B, A से कितने प्रतिशत कम (दशमलव के दो स्थान तक) है?

- Ans
- 1. 9.17%
  - 2. 16.14%
  - 3. 13.04%
  - 4. 6.14%

Question ID : 239087806  
Status : Answered  
Chosen Option : 2

Q.21 नाव की अनुप्रवाह (डाउनस्ट्रीम) गति 14 km/h है। नाव की ऊर्ध्वप्रवाह (अपस्ट्रीम) गति 10 km/h है। वह नाव शांत जल में 72 km की दूरी कितने समय में तय कर सकती है?

- Ans
- 1. 8 घंटे
  - 2. 6 घंटे
  - 3. 4 घंटे
  - 4. 12 घंटे

Question ID : 239087816  
Status : Answered  
Chosen Option : 4

Q.22 एक कार 24 मिनट में 18 km की दूरी तय कर सकती है। किसी बस की गति कार की दुगुनी है। बस 135 km की दूरी कितने मिनट में तय कर सकती है?

- Ans
- 1. 48 मिनट
  - 2. 90 मिनट
  - 3. 50 मिनट
  - 4. 75 मिनट

Question ID : 239087817  
Status : Answered  
Chosen Option : 2

Q.23 (P,Q) ; (Q,R) ; (R,P) की औसत आयु क्रमशः 13, 14 तथा 12 वर्ष है। Q की आयु कितनी है?

- Ans
- 1. 13 वर्ष
  - 2. 15 वर्ष
  - 3. 12 वर्ष

4. 11 वर्ष

Question ID : 239087803

Status : Answered

Chosen Option : 1

Q.24 A किसी कार्य को अकेला 30 दिन में कर सकता है। B उसी कार्य को अकेला 60 दिन में कर सकता है। यदि वे 5 दिन तक एक साथ कार्य करते हैं, तो कार्य का कितना हिस्सा शेष रह जाएगा?

Ans

1.  $\frac{2}{3}$   
 2.  $\frac{1}{2}$   
 3.  $\frac{3}{4}$   
 4.  $\frac{5}{6}$

Question ID : 239087814

Status : Not Answered

Chosen Option : --

Q.25 14 बच्चों का औसत वजन 22 kg है। यदि अध्यापक का वजन भी मिला लिया जाए तो औसत वजन 23 kg हो जाता है। अध्यापक का वजन कितना है?

Ans

1. 34 kg  
 2. 37 kg  
 3. 35 kg  
 4. 36 kg

Question ID : 239087802

Status : Answered

Chosen Option : 2

Section : General awareness

Q.1 वर्ष '1817 म' \_\_\_\_\_ ने समान गुणा वाले तडवा को समूहा म' उमबाकरने का #यास डकया।

Ans

1. एमी नोयथर  
 2. हेनरी मूसली  
 3. डॉबडनयर  
 4. मै=डीलीव

Question ID : 239087567

Status : Answered

Chosen Option : 3

Q.2 'ग' = धनाशक (antiperspirant deodorant) म' डन'नडलडखत म' से कौन-सा तडव मौजूद होतौहै

Ans

1. एडुडमडनयम  
 2. आयरन  
 3. कॉपर

✗ 4. सोडयम

Question ID : 239087563  
Status : Answered  
Chosen Option : 3

Q.3 पानीपत कऱ तीसरी लड़ाई ढन'नऱलऱखत म" से ढकसके बीच लड़ी गई थी?

- Ans
- ✓ 1. मराठा साऱुय और रानी साऱुय
  - ✗ 2. पृवीराज चौहान और मोह'मद गौरी
  - ✗ 3. ढसख और मुगल
  - ✗ 4. अकबर और हेम चं ढववमाऱदऱय

Question ID : 239087572  
Status : Answered  
Chosen Option : 2

Q.4 ढन'नऱलऱखत म" से ढकस नदऱ का उदगम मन्ध #देश से होता है?

- Ans
- ✗ 1. महानदऱ
  - ✓ 2. ता'ती
  - ✗ 3. कृ रणा
  - ✗ 4. गोदावरी

Question ID : 239087569  
Status : Answered  
Chosen Option : 2

Q.5 ढन'नऱलऱखत म" से ढकस 5ह पर नासा ने फ्यूरोऱसदऱ रोवर भेजा है?

- Ans
- ✗ 1. बृहऱपऱदऱ
  - ✗ 2. चऱंद
  - ✓ 3. मंगल
  - ✗ 4. शाऱन

Question ID : 239087565  
Status : Answered  
Chosen Option : 3

Q.6 गांधी शांढत पुरऱकार 2018 ढकसने जीता?

- Ans
- ✗ 1. मनमोहन ऱसह
  - ✓ 2. योहेई सासाकावा
  - ✗ 3. अणुय पा7
  - ✗ 4. जॉन ग्लू म

Question ID : 239087554  
Status : Answered  
Chosen Option : 1

Q.7 ढन'नऱलऱखतरऱुय म" से भारतके ढकसरऱुय म" मानसरऱऱीयउ#ऱन

- है Ans
- ✗ 1. पऱग्लम बंगाल

- 2. ओडिशा
- 3. असम
- 4. असम

Question ID : 239087568  
Status : Answered  
Chosen Option : 3

Q.8 #डम इन एफजाइल' के लेखक कौन ह?

- Ans
- 1. दलाई लामा
  - 2. अकाल कलाम आज़ाद
  - 3. नेसन मंडेला
  - 4. शाश थवर

Question ID : 239087556  
Status : Not Answered  
Chosen Option : --

Q.9 हेपेटाइटिस Bकसके कारण होता है?

- Ans
- 1. परजीवी
  - 2. बैक्टीरिया
  - 3. वायरस
  - 4. फुंगी

Question ID : 239087566  
Status : Answered  
Chosen Option : 2

Q.10 मार्च 2019 तक, भारतीय संविधान में कितने संशोधन किये गए ह?

- Ans
- 1. 99
  - 2. 101
  - 3. 105
  - 4. 103

Question ID : 239087561  
Status : Answered  
Chosen Option : 3

Q.11 'नलखत म' से कस राज्य म उगाद इयोहार को महवपूर्ण समझा जाता है?

- Ans
- 1. छत्तीसगढ़
  - 2. नागालैंड
  - 3. अण्णचल प्रदेश
  - 4. कर्नाटक

Question ID : 239087550  
Status : Not Answered  
Chosen Option : --

Q.12



मानव विकास सूचकांक 2018 के अनुसार, 'नलखत म' से कौन-सा देश सबसे अउवकसत

Ans देहै?

- 1. डेनमाक
- 2. डफनलड
- 3. कं बोडया
- 4. साइपस

Question ID : 239087557

Status : Answered

Chosen Option : 3

Q.13 डकस अधडनयम को माट'यु-चे'सफोड' सुधार के नाम से भी जाना जाता है?

Ans

- 1. भारतीय 5वतं7ता अधडनयम 1947
- 2. भारतीय शासन अधडनयम 1919
- 3. डपट्स इंडया एफ्ट 1784
- 4. चाटर एफ्ट 1813

Question ID : 239087560

Status : Answered

Chosen Option : 3

Q.14 मयूर का वैाडनक नाम फया है?

Ans

- 1. पडसटकु ला एउपटरआ (psittacula eupartia)
- 2. पावो डW5टेडस (Pavo Cristatus)
- 3. यूडोनडमडसस 5कोलोपेकस (Eudynamis scolopaccus)
- 4. मोलपेडस कैफर (Molpastes Cafer)

Question ID : 239087564

Status : Not Answered

Chosen Option : --

Q.15 #थम लोक सभा का गठन कब \आ था?

Ans

- 1. 1950
- 2. 1948
- 3. 1952
- 4. 1951

Question ID : 239087562

Status : Answered

Chosen Option : 2

Q.16 लाला लाजपत राय 'नलखत म' से डकस ब\*क के सं5थापक थे?

Ans

- 1. यूडनयन ब\*क ऑफ इंडया
- 2. 5टेड ब\*क ऑफ इंडया
- 3. ब\*क ऑफ बडौदा
- 4. पंजाब नेशनल ब\*क

Question ID : 239087558

Status : Answered

Chosen Option : 4

Q.17 खो-खो में एकतने इखलाड़ी होते हः

- Ans
- 1. 7
  - 2. 8
  - 3. 10
  - 4. 12

Question ID : 239087552

Status : Answered

Chosen Option : 4

Q.18 #णइत नायक इन'नइलइखत म' से इकस खेल से संबंइधत हैः

- Ans
- 1. इजमनाइइटक
  - 2. गूइफ
  - 3. बॉइसंग
  - 4. इकेइटग

Question ID : 239087553

Status : Answered

Chosen Option : 1

Q.19 इन'नइलइखत म' से इकसने चारमीनार बनवायी थीः

- Ans
- 1. कुली कुतुब शाह
  - 2. इतुतइमश
  - 3. क, तुबुइन ऐबक
  - 4. अलाउद्दइन इखलजी

Question ID : 239087551

Status : Answered

Chosen Option : 3

Q.20 गुव इशखर इन'नइलइखत पव'तइरुंखलाइ म' से इकसका सवाइच इशखर हैः

- Ans
- 1. अरावली पव'तइरुंखला
  - 2. इवइय पव'तइरुंखला
  - 3. दइकन का पठार
  - 4. सतपुड़ा पव'तइरुंखला

Question ID : 239087570

Status : Answered

Chosen Option : 1

Q.21 #धानमंरुी आवास योजना- 5ामीण का लाग \_\_\_\_ तक 'सभी केइलये आवास' उपलइध कराना है।

- Ans
- 1. 2021
  - 2. 2022
  - 3. 2023
  - 4. 2024

Question ID : 239087559  
Status : Answered  
Chosen Option : 1

Q.22 अशरफ गनी इनकस दे श के राबपत ह?

- Ans
- 1. ईरान
  - 2. बांलादेश
  - 3. अफगांनस्तान
  - 4. कुवैत

Question ID : 239087555  
Status : Answered  
Chosen Option : 2

Q.23 जागोई नुंडय इकस राय का नुंडय-Wप है?

- Ans
- 1. ओडशा
  - 2. मणपुर
  - 3. आंन प्रदेश
  - 4. असम

Question ID : 239087549  
Status : Answered  
Chosen Option : 2

Q.24 23 सदा के कना टक म, वीरशैव \_\_\_\_ के अनुयायी थे।

- Ans
- 1. बसवर्वा
  - 2. अदल
  - 3. रामानुज
  - 4. करईकल अमईयर

Question ID : 239087571  
Status : Answered  
Chosen Option : 3

Q.25 #ाचीन भारत म इकतने शापशाली महाजनपद मौजूद थे?

- Ans
- 1. 14
  - 2. 12
  - 3. 18
  - 4. 16

Question ID : 239087573  
Status : Answered  
Chosen Option : 4