

Multi Tasking (Non-Technical) Staff Examination 2019

Roll No.	
Registration No.	
Name	SSC MTS
Test Venue	iON Digital Zone iDZ Tehra
Test Time	12:30 PM - 2:00 PM
Test Date	05/08/2019

Section : General English

Q.1 Select the most appropriate synonym of the given word. Lavish

- Ans
- 1. Scarce
 - 2. Bountiful
 - 3. Austere
 - 4. Simple

Question ID : 239087119

Status : Answered

Chosen Option : 2

Select the most appropriate antonym of the given word. Hidden

- Ans
- 1. Covered
 - 2. Concealed
 - 3. Veiled
 - 4. Apparent

Question ID : 239087121

Status : Answered

Chosen Option : 4

Q.3 Select the most appropriate option to fill in the blank. I congratulated him _____ his promotion.

- Ans
- 1. because of
 - 2. due to
 - 3. on
 - 4. to

Question ID : 239087111

Status : Answered

Chosen Option : 3

Q.4 Choose the most appropriate word that can substitute the given group of words. Group of singers

- Ans
- 1. Choir
 - 2. Council
 - 3. Jury
 - 4. Orchestra

Question ID : 239087125

Status : Answered

Chosen Option : 1

Q.5 Choose the correctly spelt word.

- Ans
- 1. Allert
 - 2. Exceed
 - 3. Equipped
 - 4. Emfasize

Question ID : 239087128
Status : Answered
Chosen Option : 3

Q.6 Select the most appropriate synonym of the given word.

Accountable

- Ans
- 1. Blameless
 - 2. Answerable
 - 3. Slack
 - 4. Unreliable

Question ID : 239087120
Status : Answered
Chosen Option : 2

Comprehension:

In the following passage some words have been deleted. Fill in the blanks with the help of the alternatives given. Select the most appropriate option for each blank.

Obesity is a condition where the body stores excess fat leading to a considerable 1. _____ in the body weight. It is increasing 2. _____ a fast pace in our country. It has 3. _____ adverse health effects and can even 4. _____ to pre-mature death. The basic cause of obesity is 5. _____ imbalance between energy intake and energy expenditure.

SubQuestion No : 7

Q.7 Select the most appropriate option for blank No. 1.

- Ans
- 1. increase
 - 2. raise
 - 3. decline
 - 4. decrease

Question ID : 239087114
Status : Answered
Chosen Option : 1

Comprehension:

In the following passage some words have been deleted. Fill in the blanks with the help of the alternatives given. Select the most appropriate option for each blank.

Obesity is a condition where the body stores excess fat leading to a considerable 1. _____ in the body weight. It is increasing 2. _____ a fast pace in our country. It has 3. _____ adverse health effects and can even 4. _____ to pre-mature death. The basic cause of obesity is 5. _____ imbalance between energy intake and energy expenditure.

SubQuestion No : 8

Q.8 Select the most appropriate option for blank No. 2.

- Ans
- 1. at
 - 2. by
 - 3. with
 - 4. on

Question ID : 239087115
Status : Answered
Chosen Option : 3

Comprehension:

In the following passage some words have been deleted. Fill in the blanks with the help of the alternatives given. Select the most appropriate option for each blank.

Obesity is a condition where the body stores excess fat leading to a considerable 1. _____ in the body weight. It is increasing 2. _____ a fast pace in our country. It has 3. _____ adverse health effects and can even 4. _____ to pre-mature death. The basic cause of obesity is 5. _____ imbalance between energy intake and energy expenditure.

SubQuestion No : 9

Q.9 Select the most appropriate option for blank No. 3.

- Ans
- 1. many
 - 2. little
 - 3. few
 - 4. much

Question ID : 239087116

Status : Answered

Chosen Option : 1

Comprehension:

In the following passage some words have been deleted. Fill in the blanks with the help of the alternatives given. Select the most appropriate option for each blank.

Obesity is a condition where the body stores excess fat leading to a considerable 1. _____ in the body weight. It is increasing 2. _____ a fast pace in our country. It has 3. _____ adverse health effects and can even 4. _____ to pre-mature death. The basic cause of obesity is 5. _____ imbalance between energy intake and energy expenditure.

SubQuestion No : 10

Q.10 Select the most appropriate option for blank No. 4.

- Ans
- 1. point
 - 2. start
 - 3. lead
 - 4. take

Question ID : 239087117

Status : Answered

Chosen Option : 3

Comprehension:

In the following passage some words have been deleted. Fill in the blanks with the help of the alternatives given. Select the most appropriate option for each blank.

Obesity is a condition where the body stores excess fat leading to a considerable 1. _____ in the body weight. It is increasing 2. _____ a fast pace in our country. It has 3. _____ adverse health effects and can even 4. _____ to pre-mature death. The basic cause of obesity is 5. _____ imbalance between energy intake and energy expenditure.

SubQuestion No : 11

Q.11 Select the most appropriate option for blank No. 5.

- Ans
- 1. the
 - 2. no
 - 3. one
 - 4. a

Question ID : 239087118

Status : Answered

Chosen Option : 4

Q.12 Find the part of the given sentence that has an error in it. If there is no error, choose 'No error'.
The people in my office are smarter than other offices. /No error

- Ans
- 1. The people in
 - 2. No error
 - 3. smarter than other offices
 - 4. my office are

Question ID : 239087105
Status : Answered
Chosen Option : 3

Q.13 Select the most appropriate option to substitute the underlined segment in the given sentence. If there is no need to substitute it, select No Improvement. If he would tried he would have succeeded.

- Ans
- 1. was tried
 - 2. No Improvement
 - 3. is tried
 - 4. had tried

Question ID : 239087108
Status : Answered
Chosen Option : 4

Q.14 Choose the correctly spelt word.

- Ans
- 1. Dielema
 - 2. Dilemma
 - 3. Dilema
 - 4. Dillema

Question ID : 239087127
Status : Answered
Chosen Option : 2

Q.15 Find the part of the given sentence that has an error in it. If there is no error, choose 'No error'. The doctor with his interns are due to arrive here by noon. /No error

- Ans
- 1. The doctor with his
 - 2. No error
 - 3. to arrive here by noon
 - 4. interns are due

Question ID : 239087107
Status : Answered
Chosen Option : 4

Q.16 Select the most appropriate option to fill in the blank. The little puppy was _____ by a speeding car.

- Ans
- 1. run away
 - 2. run over
 - 3. run at
 - 4. run into

Question ID : 239087129
Status : Answered
Chosen Option : 1

Q.17 Choose the most appropriate word that can substitute the given group of words. Full of criticism and mockery

- Ans
- 1. Cliché
 - 2. Eulogy
 - 3. Praise
 - 4. Satire

Question ID : 239087126
Status : Answered
Chosen Option : 1

Q.18 Select the most appropriate option to substitute the underlined segment in the given sentence. If there is no need to substitute it, select No Improvement.
Applications are invite to eligible candidates for the post of Vice Principal in a reputed school.

- Ans
- 1. No Improvement
 - 2. invited from
 - 3. invited by
 - 4. inviting from

Question ID : 239087109
Status : Answered
Chosen Option : 3

Q.19 Select the most appropriate meaning of the given idiom.
Come to light

- Ans
- 1. To be obscure
 - 2. To be well lit-up
 - 3. To pry a secret
 - 4. To be known publicly

Question ID : 239087123
Status : Answered
Chosen Option : 3

Q.20 Select the most appropriate option to fill in the blank.
The wonderful performance of the maestro left the audience _____ .

- Ans
- 1. puzzled
 - 2. hungry
 - 3. sleepy
 - 4. entranced

Question ID : 239087130
Status : Answered
Chosen Option : 4

Q.21 Select the most appropriate option to substitute the underlined segment in the given sentence. If there is no need to substitute it, select No Improvement.
The terrorist was arrested for the first time in December, 2001.

- Ans
- 1. for first timing
 - 2. in the first time
 - 3. for one times
 - 4. No Improvement

Question ID : 239087110
Status : Answered
Chosen Option : 4

Q.22 Select the most appropriate antonym of the given word.
Goodwill

- Ans 1. Hostility
 2. Felicity
 3. Insanity
 4. Facility

Question ID : 239087122
Status : Answered
Chosen Option : 1

Q.23 Select the most appropriate option to fill in the blank.
Teachers would like _____ a long holiday.

- Ans 1. have
 2. having been
 3. having for
 4. to have

Question ID : 239087112
Status : Answered
Chosen Option : 4

Q.24 Select the most appropriate meaning of the given idiom.
Above one's head

- Ans 1. To be very tall
 2. Intimate and personal
 3. Overhead expenses
 4. Beyond one's understanding

Question ID : 239087124
Status : Answered
Chosen Option : 4

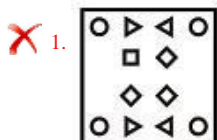
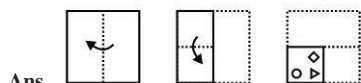
Q.25 Find the part of the given sentence that has an error in it. If there is no error, choose 'No error'.
Mukherjee is a famous politician who is love by most people. /No error

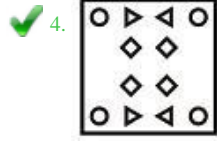
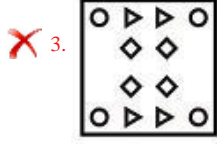
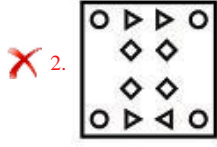
- Ans 1. No error
 2. is love by most people
 3. Mukherjee is a
 4. famous politician who

Question ID : 239087106
Status : Answered
Chosen Option : 2

Section : General Intelligence & Reasoning

Q.1 एक कागज के टुकड़े को आकृतियों में दिखाए अनुसार क्रम में मोड़ा गया है और फिर उस मोड़े हुए कागज के टुकड़े को नीचे दी आकृतियों में दिखाए अनुसार ही काटा गया है। इस कागज के टुकड़े को वापिस खोलने पर यह कैसा दिखाई देगा?





Question ID : 239087379

Status : Answered

Chosen Option : 4

Q.2 उस शब्द युग्म का चयन कीजिए जिसके दोनों शब्द आपस में उसी प्रकार संबंधित हैं जिस प्रकार नीचे दिए गए शब्द युग्म के दोनों शब्द आपस में संबंधित हैं।

बासी : ताजा

- Ans
1. अंतिम : आरंभक
 2. अन्याय करना : बर्बाद
 3. गर्म : सूय
 4. गहरा : सत

Question ID : 239087357

Status : Answered

Chosen Option : 1

Q.3 एक कूट भाषा में, 'EMPTYD' को 'CJNQWA' लिखा जाता है। उसी कूट भाषा में 'VACANT' का कोड कौन होगा ?

- Ans
1. TXAXLQ
 2. UYAMYP
 - ✗ 3. TXBXLQ
 - ✗ 4. UYBYMR

Question ID : 239087361

Status : Answered

Chosen Option : 1

Q.4 नीचे दिए गए क्रम में से उस संख्या को चुनिए जो इन क्रमों में खाली स्थानों में से एक में आएगी।

37, 33, 29, 25, ?

- Ans
- ✗ 1. 22
 - ✗ 2. 19
 - ✓ 3. 21
 - ✗ 4. 20

Question ID : 239087369

Status : Answered

Chosen Option : 3

Q.5 नीचे दिए गए क्रम में से उस संख्या को चुनिए जो इन क्रमों में खाली स्थानों में से एक में आएगी।

72, 69, 64, ?, 48

- Ans 1. 57
 2. 55
 3. 59
 4. 54

Question ID : 239087370
Status : Answered
Chosen Option : 1

Q.6 एक कूट भाषा में, 'ALERT' को '11251820' लिखा जाता है और 'HERD' को '85184' लिखा जाता है। उसी कोड भाषा में 'CLOTH' का कोड क्या होगा ?

- Ans 1. 31215208
 2. 31512207
 3. 31215218
 4. 38152014

Question ID : 239087363
Status : Answered
Chosen Option : 1

Q.7 'न'नललखत वकपा म' से उस सं'या को चुनए जो 'न'नललखत/एूंखला म' तीसरी सं'या से उीह से संबंलधत है लजस तरह से 'सरी सं'या पहली सं'या से संबंलधत है।

101 : 10202 :: 107 : ?

- Ans 1. 11450
 2. 11447
 3. 12449
 4. 12550

Question ID : 239087371
Status : Answered
Chosen Option : 1

Q.8 यलद + तथा - को पर5पर बदल लदया जाता है तो 'न'नललखत समीकरण का मान क्या होगा?

$72 - 91 \div 13 \times 12 + 6 = ?$

- Ans 1. 140
 2. 144
 3. 156
 4. 150

Question ID : 239087374
Status : Answered
Chosen Option : 4

Q.9 नीचे लदए गए कथना और उनके लनरकषा को ध्यान से पलदए। कथना म' दत गई जानकारी को सडय मानतेए चाहे वे सामा-य वप से जात त'या से लभु लगते हा, लनण य कललजए लक लदए गए कौनसा/से लनरकष, कथना का ताकक वप से अनुसरण करता/करते ह*।

कथन:

- I. कु छ बाइक कार ह*।
II. कु छ कार डक ह*।

लनरकष:

- I. कु छ डक बाइक ह*।
II. कोई बाइक डक नहीं है।

- Ans 1. केवल लनरकष I अनुसरण करता है।

✓ 2. या तो 'अनुरक्षण I' या 'अनुरक्षण II' अनुसरण करता है।

✗ 3. केवल 'अनुरक्षण II' अनुसरण करता है।

✗ 4. दोनों 'अनुरक्षण I' तथा 'अनुरक्षण II' अनुसरण करते हैं।

Question ID : 239087367


Status : Answered

Chosen Option : 2

Q.10 दिए गए पैटर्न का ध्यानपूर्वक अध्ययन करें और उस आकृति को चुनें जो प्रश्न आकृति में दिए गए पैटर्न को पूरा करेगी।



Ans



Question ID : 239087376

Status : Answered

Chosen Option : 1

Q.11 दिए गए पैटर्न का ध्यानपूर्वक अध्ययन करें और उस संख्या को चुनें जो इसमें प्रश्न चिह्न (?) के स्थान पर आएगी।

3 4 9 17

7 2 5 15

6 8 3 ?

Ans

✓ 1. 20

✗ 2. 28

✗ 3. 10

✓ 4. 18

Question ID : 239087372

Status : Answered

Chosen Option : 4

Q.12 'अनुरक्षण I' से 'अनुरक्षण II' को चुनें जो 'अनुरक्षण III' से संबंधित है। 'अनुरक्षण III' से 'अनुरक्षण IV' को चुनें जो 'अनुरक्षण I' से संबंधित है।

RAT : UXW :: TOG : ?

Ans

✓ 1. WLJ

✗ 2. XMD

✗ 3. XLC

✗ 4. WLC

Question ID : 239087359

Status : Answered

Chosen Option : 1

Q.13

दिए गए विकल्पों में से उस आकृति को चुनिए जो निम्नलिखित श्रृंखला में अगले स्थान पर आएगी।

L R V J N T	V L T R J N	T V N L R J	N T J V L R	?
-------------------	-------------------	-------------------	-------------------	---

Ans

1.

J
N R
T V L

2.

R
J N
T V L

3.

N
J R
T V L

4.

J
R N
T V L

Question ID : 239087375

Status : Answered

Chosen Option : 1

Q.14 छः \$BU L, M, N, P, Q\$ तथा R एक पं\$U\$ में उ\$U\$र क\$ और मुख करके बैठे \$ए है (ज\$Vरी नहीं \$क इसी \$U\$म म\$ हो)। P तथा M के म\$य तीन \$BU\$ ह\$। P \$कसी भी एक छोर पर नहीं है। L तथा Q के म\$य के वल तीन \$BU\$ ह\$। N, R के बाय\$ ओर है। L \$कसी एक छोर पर है। M, P के दाय\$ ओर है। N के बाय\$ ओर \$कतने \$BU\$ बैठे \$ए है?

- Ans
1. 4
2. 1
3. 2
4. 3

Question ID : 239087365

Status : Answered

Chosen Option : 3

Q.15 नीचे \$दए गए कथना और उनके \$नरकषा को ध्यान से प\$ढ़ए। कथना म\$ द\$ गई जानकारी को स\$य मानते \$ए, चाहे वे सामा\$य W\$ से ज्ञात त\$या से \$भ\$U\$ लगते ह\$, \$नण \$य क\$ \$जए \$क \$दए गए कौनसा/से \$नरकष\$, कथना का ता\$कक W\$ से अनुसरण करता/करते ह\$।

कथन:

- I. सभी T, M ह\$।
II. कोई T, P नहीं है।

\$नरकष\$:

- I. कोई P, M नहीं है।
II. कु छ M, T ह\$।

- Ans
1. दोनों \$नरकष\$ I तथा II अनुसरण करते ह\$।
2. केवल \$नरकष\$ II अनुसरण करता है।
3. कोई भी \$नरकष\$ अनुसरण नह\$ करता है।
4. केवल \$नरकष\$ I अनुसरण करता है।

Question ID : 239087368


Status : Answered

Chosen Option : 2

Q.16 उस आरेख को चुनिए जो नीचे दिए गए वर्गों के बीच के संबंध को सही प्रकार से दर्शाता है।

कार, बाइक, ट्रक

Ans



Question ID : 239087380

Status : Answered

Chosen Option : 4

Q.17 एक कूट भाषा में, 'ROGER' को '5' ढलखा जाता है और 'MOULDS' को '6' ढलखा जाता है। उसी कूट भाषा में 'PIN' का कोड क्या होगा ?

Ans

1. 3

2. 8

3. 4

4. 2

Question ID : 239087362

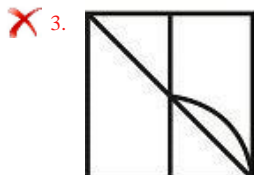
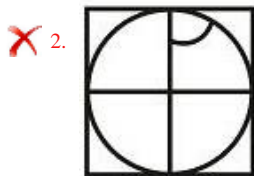
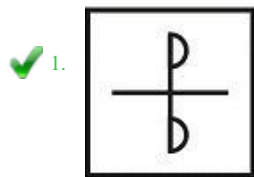
Status : Answered

Chosen Option : 1

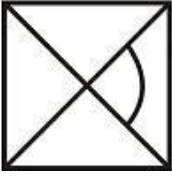
Q.18 दिए गए विकल्पों में से उस उत्तर आकृति को चुनिए जिसमें नीचे दी गई आकृति अन्तर्निहित है।

P

Ans



4.



Question ID : 239087377

Status : Answered

Chosen Option : 1

Q.19 'नलखत वकपा म' से उस शब्द को चुनए जो 'नलखत खलाम' तीसरे शब्द से उसी तरह से संबंधित है जस तरह से 'सरा शब्द पहले शब्द से संबंधित है।

छू ना : धके लना :: बोलना : ?

Ans

1. 738ट

2. वललाना

3. उदास

4. अपराध

Question ID : 239087358

Status : Answered

Chosen Option : 2

Q.20 छः कु फसयाँ J, K, P, R, S तथा T एक के ऊपर एक रखी गयी ह* (जवरी नहाऱ वक वे इसी उम म' हो)। R, के वल P तथा S के ऊपर है। J तथा S के मय चार कु फसयाँ ह*। K, P से तीन थान ऊपर ह*। यडद हम इन कु फसया को ऊपर से नीचे तक वणा 'नुउम मे वडथत कर', तो वकतनी कु फसया का उभा को छोडकर) बदल जाएगा?

Ans

1. 2

2. 3

3. 1

4. 0

Question ID : 239087366

Status : Answered

Chosen Option : 2

Q.21 नीचे वदए वकपा म' से उस अणर समूह को चुनए जो 'नलखत खलाम' #व वच] (?) के थान पर आएगा।

RAB, TDG, VGL, ? ,

ZMV Ans

1.

XJQ

2. YLR

3. XKQ

4. YKR

Question ID : 239087356

Status : Answered

Chosen Option : 1

Q.22 जब एक दर्पण को AB रेखा पर रखा जाता है, तो नीचे दी गई आकृति की सही दर्पण छवि को चुनिए?



Ans

✓ 1.



✗ 2.



✗ 3.



✗ 4.



Question ID : 239087378

Status : Answered

Chosen Option : 1

Q.23 एक कूट भाषा म, 'PAPER' को 'UFUJW' ढलखा जाता है। उसी कूट भाषा म "MOURN" का कोड फ्या होगा ? Ans 1. SUBXT

2. RTZWS

3. RTAWS

4. SUAXT

Question ID : 239087360

Status : Answered

Chosen Option : 2

Q.24 ढन'नढलढखत समीकरण को सही बनाने के ढलए ढकन दो ढचाा को आपस म" बदलना होगा ?

$$14 \times 16 \div 8 + 2 - 1 = 17$$

Ans ✗ 1. \times तथा

- ✓ 2. $+$ तथा

\times

✗ 3. $+$ तथा \div

✗ 4. $-$ तथा \div

Question ID : 239087373

Status : Answered

Chosen Option : 2

Q.25 पाँच लडढकयाँ D, L, N, O तथा Q एक पंढु मे दढण कत ओर मुख करके बैठत ढई ह* (जवरी नहढ ढक ढीढ म" हो)। L, O के दायढ ओर ढसरे 5थान पर बैठत ढई है। Q, D के तुरंत दायढ ओर बैठत ढई है। Q तथा N के मढ्य दो लडढकयाँ बैठत ढई ह*। D के दायढ ओर ढकतनी लडढकयाँ बैठत ढई ह* ?

Ans ✗ 1. 2

✗ 2. 4

✗ 3. 3

✓ 4. 1

Question ID : 239087364
Status : Answered
Chosen Option : 4

Section : Numerical Aptitude

Q.1 किसी गोले की त्रिज्या, एक लंबवृत्तीय बेलन (सिलेंडर) के आधार की त्रिज्या तथा ऊंचाई के बराबर है। गोले की पृष्ठीय क्षेत्रफल (सरफेस एरिया) तथा बेलन (सिलेंडर) के वक्र पृष्ठ के क्षेत्रफल का अनुपात कितना है?

- Ans
- 1. 2 : 1
 - 2. 1 : 2
 - 3. 1 : 1
 - 4. 2 : 3

Question ID : 239087502
Status : Answered
Chosen Option : 1

Q.2 $36 \div 8 \times 4 + 2 \div 4 - 1 + 5 \text{ of } 3 \div (4 \times 2 - 3) - 3$ का मान कितना है?

- Ans
- 1. 18
 - 2. 16
 - 3. $\frac{35}{2}$
 - 4. $\frac{31}{2}$

Question ID : 239087482
Status : Answered
Chosen Option : 3

Q.3 यदि $x : y : z = 3 : 4 : 5$ और $x + y + z = 96$ है, तो z का मान कितना है?

- Ans
- 1. 42
 - 2. 36
 - 3. 32
 - 4. 40

Question ID : 239087491
Status : Answered
Chosen Option : 4

Q.4 A ने किसी वस्तु को 15% लाभ पर ₹1495 में बेचा। उसने एक अन्य वस्तु खरीदी जिसका लागत मूल्य पहले खरीदी गई वस्तु के बराबर है। उसने इस नई वस्तु को 10% के लाभ पर बेचा। A ने कुल कितना लाभ कमाया?

- Ans
- 1. ₹325
 - 2. ₹450
 - 3. ₹375
 - 4. ₹425

Question ID : 239087490
Status : Answered
Chosen Option : 1

Q.5 A वह तीन अंकों की सबसे छोटी संख्या है, जो 3, 4 तथा 5 से विभाजित करने पर क्रमशः 1, 2 तथा 3 शेषफल देती है। A के अंको का योग कितना है?

Ans

- 1. 11
- 2. 10
- 3. 6
- 4. 8

Question ID : 239087481
Status : Answered
Chosen Option : 2

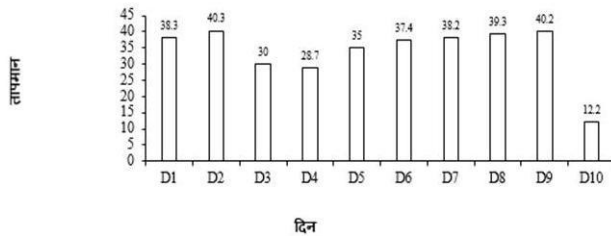
Q.6 A किसी कार्य को अकेले 10 दिन में कर सकता है। A तथा B उसी कार्य को मिलकर 20/3 दिनों में कर सकते हैं। A, B तथा C उसी कार्य को मिलकर 40/7 दिनों में कर सकते हैं। B तथा C उसी कार्य को मिलकर कितने दिनों में कर सकते हैं?

Ans

- 1. $\frac{44}{3}$
- 2. $\frac{20}{3}$
- 3. $\frac{40}{3}$
- 4. $\frac{44}{7}$

Question ID : 239087496
Status : Answered
Chosen Option : 3

Q.7 नीचे दिया गया दण्ड आरेख किसी शहर के विभिन्न मासों में 10 भिन्न दिनों के अधिकतम तापमान ($^{\circ}\text{C}$) को दर्शाता है।



Ans दर 1. 27.1°C से 2. 26.1°C तक बढ़ाया गया डाटा से रिकॉर्ड किए गए उच्चतम और न्यूनतम अधिकतम तापमानों के बीच कितना अंतर (दिया में लिखें)?

- 1. 27.1
- 2. 26.1
- 3. 28.0
- 4. 28.1

Question ID : 239087505
Status : Answered
Chosen Option : 4

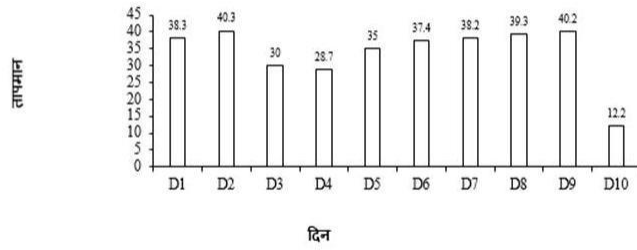
Q.8 किसी घनाभ की लंबाई अपनी चौड़ाई की दोगुनी है तथा उसकी ऊँचाई, उसकी चौड़ाई की आधी है। यदि घनाभ की ऊँचाई 2 cm है, तब किसी घन का कोर (एज) कितना होगा जिसका आयतन उक्त घनाभ के समान है?

Ans

- 1. 4 cm
- 2. 6.4 cm
- 3. 8 cm
- 4. 7.2 cm

Question ID : 239087501

Q.9 नीचे दिया गया दण्ड आरेख किसी शहर के विभिन्न मासों में 10 भिन्न दिनों के अधिकतम तापमान ($^{\circ}\text{C}$ में) को दर्शाता है।



- Ans
- D5 का तापमान, D10 का तापमान से कितने प्रतिशत अधिक है?
- 1. 23.01%
 - 2. 21.07%
 - 3. 24.57%
 - 4. 16.67%

Question ID : 239087504

Status : Answered

Chosen Option : 4

Q.10 किसी ठोस अर्ध-गोले का व्यास 35 cm है। उसका कुल तल क्षेत्रफल कितना है। ($\pi = \frac{22}{7}$ लें)


- Ans
- 1. 2981 cm^2
 - 2. 2887.5 cm^2
 - 3. 3163 cm^2
 - 4. 2198.5 cm^2

Question ID : 239087500

Status : Answered

Chosen Option : 2

Q.11 नीचे दिया गया दण्ड आरेख किसी शहर के विभिन्न मासों में 10 भिन्न दिनों के अधिकतम तापमान ($^{\circ}\text{C}$ में) को दर्शाता है।



- Ans
- दिए गए दस दिनों के लिए प्रतिदिन शहर का औसत अधिकतम तापमान कितना है?
- 1. 32.96 $^{\circ}\text{C}$
 - 2. 33.96 $^{\circ}\text{C}$
 - 3. 35.96 $^{\circ}\text{C}$
 - 4. 44.96 $^{\circ}\text{C}$

Question ID : 239087503
Status : Answered
Chosen Option : 2

Q.12 वस्तु A और वस्तु B के लागत मूल्य क्रमशः ₹1200 एवं ₹1600 हैं। वस्तु A का विक्रय मूल्य ₹1380 है तथा दोनों वस्तुओं को बेचने पर कुल लाभ 25% है। वस्तु B को बेचने पर लाभ प्रतिशत कितना है?

- Ans
1. 27.5
 2. 32.5
 3. 29.5
 4. 35.5

Question ID : 239087489
Status : Answered
Chosen Option : 2

Q.13 दूध और पानी के 60 लीटर मिश्रण में दूध एवं पानी की मात्रा का अनुपात 3 : 2 है। यदि हम दूध और पानी की मात्रा का अनुपात 1 : 1 करना चाहते हैं, तब मिश्रण में कितना और पानी मिलाया जाना चाहिए?

- Ans
1. 10 लीटर
 2. 16 लीटर
 3. 12 लीटर
 4. 14 लीटर

Question ID : 239087493
Status : Answered
Chosen Option : 3

Q.14 एक रेलगाड़ी 900 मीटर लंबे प्लेटफॉर्म को 300 सेकण्ड में पार करती है। यदि रेलगाड़ी की लंबाई 600 मीटर है, तब वह एक स्थिर खंभे (स्टेशनरी पोल) को कितने समय में पार कर सकती है?

- Ans
1. 5 मिनट
 2. 2 मिनट
 3. 3 मिनट
 4. 4 मिनट

Question ID : 239087499
Status : Answered
Chosen Option : 2

Q.15 a, b तथा c का औसत 9 है। b तथा c का औसत 10 है। a का मान कितना है?

- Ans
1. 6
 2. 7
 3. 8
 4. 9

Question ID : 239087484
Status : Answered
Chosen Option : 2

Q.16 किसी वस्तु के अंकित मूल्य तथा विक्रय मूल्य का अनुपात 12 : 7 है। छूट प्रतिशत कितना है?

- Ans
1. 41.67
 - 2.

3. 39.33

4. 42.33

Question ID : 239087486

Status : Answered

Chosen Option : 1

Q.17 निश्चित साधारण ब्याज दर पर ₹500 की राशि 2 वर्ष में ₹600 हो जाती है। यदि ब्याज दर को आधा कर दिया जाता है, तो ₹500 की राशि 2 वर्ष में कितनी होगी?

Ans 1. ₹500

2. ₹520

3. ₹560

4. ₹550

Question ID : 239087494

Status : Answered

Chosen Option : 4

Q.18 दिये गए आँकड़े का बहुलक कितना है?

4, 3, 4, 3, 2, 2, 2, 5, 5, 3, 4, 6, 4, 3, 3

Ans 1. 4

2. 3

3. 2

4. 5

Question ID : 239087487

Status : Answered

Chosen Option : 2

Q.19 A किसी निश्चित दूरी को तीन भिन्न गतियों के साथ तय करता है; पहली 3 km की दूरी 9 km/h की गति के साथ, दूसरी 6 km की दूरी 15 km/h की गति के साथ, और तीसरी 9 km की दूरी 18 km/h की गति के साथ तय करता है। A की पूरी यात्रा की औसत गति कितनी है?

Ans 1. $\frac{660}{37}$ km/h

2. $\frac{480}{37}$ km/h

3. $\frac{460}{37}$ km/h

4. $\frac{540}{37}$ km/h

Question ID : 239087498

Status : Answered

Chosen Option : 4

Q.20 36 छात्रों के समूह की औसत आयु 23 वर्ष है। 22 वर्ष की औसत आयु वाले 4 छात्र समूह छोड़ देते हैं। नए समूह की औसत आयु वर्षों में (एक दशमलव स्थान तक) कितनी है?

Ans 1. 24.4

2. 24.5

3. 23.8

4. 23.1

Question ID : 239087485
Status : Answered
Chosen Option : 4

Q.21 यदि $A = 7 \times 3 \div (2 + 4) + 4 - 2$, $B = 3 \div 6 \times 4 + 2 - 2$ of 3 तथा

Ans $C = 6 \div 2 + 4 \times 3 - 2$ है। तब $(A + B - C)$ का मान कितना है?

1. $\frac{-16}{2}$
2. $\frac{19}{2}$
3. $\frac{-19}{2}$
4. $\frac{16}{3}$

Question ID : 239087483
Status : Answered
Chosen Option : 3

Q.22 वार्षिक रूप से संयोजित किसी राशि को चक्रवृद्धि ब्याज पर निवेश किया जाता है, जो 3 वर्षों के बाद बढ़कर ₹1000 तथा 4 वर्षों के बाद ₹1100 हो जाती है। प्रति वर्ष ब्याज की दर कितनी है?

- Ans
1. 12.5%
2. 10%
3. 15%
4. 20%

Question ID : 239087495
Status : Answered
Chosen Option : 2

Q.23 पाइप A किसी खाली टैंक को 11 घंटे में पूर्ण रूप से भर सकता है। पाइप B इस पूर्ण रूप से भरे गए टैंक को 15 घंटे में खाली कर सकता है। यदि दोनों पाइपों को एक साथ खोला जाता है, तो खाली टैंक कितने समय में भरेगा?

- Ans
1. 41 घंटे 15 मिनट
2. 49 घंटे 45 मिनट
3. 47 घंटे 30 मिनट
4. 39 घंटे 15 मिनट

Question ID : 239087497
Status : Answered
Chosen Option : 1

Q.24 किसी विद्यालय में 150 छात्र हैं। यदि लड़के तथा लड़कियों की संख्या का अनुपात 4 : 1 है, तो विद्यालय में लड़कों और लड़कियों की संख्या के बीच मध्यानुपात कितना है?

- Ans
1. 50
2. 40
3. 30
4. 60

Question ID : 239087492
Status : Answered
Chosen Option : 4

Q.25 एक वर्ग की भुजा को पहले 10% बढ़ाया गया और फिर उसे 20% कम किया गया। क्षेत्रफल में कुल प्रतिशत परिवर्तन कितना है?

- Ans
- 1. 18.24% की गिरावट
 - 2. 22.56% की वृद्धि
 - 3. 18.24% की वृद्धि
 - 4. 22.56% की गिरावट

Question ID : 239087488
Status : Answered
Chosen Option : 4

Section : General awareness

Q.1 मास ऑक्टोबर में मशान का लांच वाहन ___ था।

- Ans
- 1. PSLV C-42
 - 2. PSLV C-25
 - 3. PSLV C-45
 - 4. PSLV C-46

Question ID : 239087249
Status : Answered
Chosen Option : 4

Q.2 'नभलखत म' से उडपादन के कारक म' फ्या शाडमल नैह

- Ans
- 1. पूंजी
 - 2. म
 - 3.
 - 4. कर
 - भूम

Question ID : 239087240
Status : Answered
Chosen Option : 3

Q.3 'नभलखत म' से कौन-सा पहला डकला बनवाथ

- Ans
- 1. फोट' स"ट जॉज'
 - 2. मसूडलपटनम
 - 3. फोट' डवडलयम
 - 4. सेवरी फोट'

Question ID : 239087255
Status : Answered
Chosen Option : 2

Q.4 'नभलखत म' से कौन-सी नदः पूव' डदशा म' बहने वाली नदः नैह

- Ans
- 1. वेगई
 - 2. डवणरेखा
 - 3. वंशधारा
 - 4. मही

Question ID : 239087245
Status : Answered
Chosen Option : 4

Q.5 'नलखत म' से कस अखबार का स'पादन दादाभाई नरोजी ने कया था?

- Ans
- 1. शोम Pकाश
 - 2. रात गोरतार
 - 3. महरका
 - 4. संवाद कौमुद

Question ID : 239087253

Status : Not Answered

Chosen Option : --

Q.6 सामूहक गायन 'सबद' ____ से संबंधत है।

- Ans
- 1. गुV पुरब
 - 2. मुहरम
 - 3. बु\ पूणमा
 - 4. महावीर जयंती

Question ID : 239087232

Status : Answered

Chosen Option : 1

Q.7 ल'स कत गमता कत SI यूनट Fया है?

- Ans
- 1. जुल
 - 2. डायोटर
 - 3. के डूयू एच
 - 4. वॉट

Question ID : 239087247

Status : Answered

Chosen Option : 2

Q.8 भारत म' राBीय आ=दोलन के स=दभ' म', पूना समझौता पर ह5तागर कब \ए थे?

- Ans
- 1. 1923
 - 2. 1922
 - 3. 1932
 - 4. 1933

Question ID : 239087254

Status : Answered

Chosen Option : 3

Q.9 2011 कत जनगणना के अनुसार, 'नलखत राया म' से कस राय म' सवा' ढक 5ामीण अहै

- Ans
- 1. महाराB
 - 2. उKR Pदेश
 - 3. पंजाब
 - 4. मध्य Pदेश

Question ID : 239087239

Status : Answered

Chosen Option : 4

Q.10 जून 2019 तक कत ढ5थत के अनुसार, जल शरु मंफी कैहै

- Ans
- 1. मह' नाथ पांडे

- 2. Pकाश जावड़ेकर
- 3. मु"तार अदबवास नकवी
- 4. गज\Yसह शेखावत

Question ID : 239087242
Status : Answered
Chosen Option : 4

Q.11 फेडमना डमस इंडडया 2019 कौन

Ans है

- 1. सुमन राव
- 2. मानुषी डछुलर
- 3. फिया शंकर
- 4. अनुकृ डत वास

Question ID : 239087238
Status : Answered
Chosen Option : 1

Q.12 पुडत 'एUी चाइड मैटस' का डकसने डकया है?

Ans क लेख

- 1. जवाहर लाल नेहV
- 2. कै लाश सडयाथ
- 3. चेतन भगत
- 4. अVण शौरी

Question ID : 239087236
Status : Answered
Chosen Option : 4

Q.13 डन'नडलडखत म" से भारत के डकस वैाडनक का संबंघ Uे 5को5ाफ के आडवरकार से है?

Ans

- 1. मेघनाद साहा
- 2. होमी जे भाभा
- 3. सडये=नाथ बोस
- 4. जगदशचं बोस

Question ID : 239087246
Status : Answered
Chosen Option : 4

Q.14 पोषण के 5वपोषी Wप के डलये ___ आवCयक होता है।

Ans

- 1. फलोरोडफल और ऑफसीजन
- 2. मीथेन
- 3. काब'न मोनोऑफसाइड और पानी
- 4. काब'न डाइऑफसाइड, पानी, फलोरोडफल और सूय' काPकाश

Question ID : 239087250
Status : Answered
Chosen Option : 4

Q.15 आर. #ागनानंदा डकस खेल से संबंघत ह'?

Ans

- 1. बैडYमटन
- 2. टेडनस
- 3. गौफ़

✓ 4. शतरंज

Question ID : 239087235
Status : Answered
Chosen Option : 4

Q.16 भारत में मौद्रिक नीति _____ द्वारा बनाई जाती है।

- Ans
- ✗ 1. केंद्र सरकार
 - ✗ 2. एसईबीआई (SEBI)
 - ✗ 3. इंडियन बैंक
 - ✓ 4. भारतीय रिजर्व बैंक

Question ID : 239087241
Status : Answered
Chosen Option : 4

Q.17 भारत के इन्फ्लेशन दर में से किस राज्य में सबसे लंबी तटरेखा है?

- Ans
- ✗ 1. केरल
 - ✗ 2. ओडिशा
 - ✗ 3. महाराष्ट्र
 - ✓ 4. गुजरात

Question ID : 239087252
Status : Answered
Chosen Option : 4

Q.18 2019 ऑडिटेशन ऑपन में पुष्पा का एकल इखताब किसने जीता?

- Ans
- 1. एंडी मरे
 - 2. नोवाक जोकोविच
 - 3. रोजर फे डरर
 - 4. राफेल नडाल

Question ID : 239087234
Status : Answered
Chosen Option : 2

Q.19 इन्फ्लेशन दर में से किस युग का सही इमलान नहीं है?

- Ans
- ✓ 1. मोहनोआम - ओडिशा
 - ✗ 2. यगाण - कनाटक
 - ✗ 3. गरबा - गुजरात
 - ✗ 4. कुडचपुडी - आंध्र प्रदेश

Question ID : 239087233
Status : Answered
Chosen Option : 1

Q.20 राष्ट्रपति द्वारा इकतनी बार देश में राष्ट्रीय आपातकाल की घोषणा की गयी है?

- Ans
- ✓ 1. तीन बार
 - ✗ 2. चार बार
 - ✗ 3. दो बार
 - ✗ 4. एक बार

Question ID : 239087243

Status : Answered
Chosen Option : 1

Q.21 नेशनल डायमंड
इंडस्ट्रीट
— म" इथत है।

- Ans
- 1. सूरत
 - 2. वापी
 - 3. गांधीनगर
 - 4. वड़ोदरा

Question ID : 239087251
Status : Not Answered
Chosen Option : --

Q.22 नेशनल इंडस्ट्रीट म" से कौन-सा कथन लोक सभा के बारे म" सही नहल है?

- Ans
- 1. के=इय मंडप इरषद सामूहक Vप से लोकसभा के पइत उकरदायी होती है।
 - 2. कोई इवधेयक धन इवधेयक है या नही? इस पइ पर इवपू के नेता का अंइतम इनणय है।
 - 3. धन इवधेयक केवल लोकसभा म" ही पेश इकया जा सकता है।
 - 4. मंडप इरषद के इखलाफ अइवूास पइताव केवल लोकसभा म" पेश इकया जा सकता है।

Question ID : 239087244
Status : Answered
Chosen Option : 2

Q.23 लोक संगीत 'मांड' इकस राउय से संबंइधत है?

- Ans
- 1. उकर पदेश
 - 2. मइणपुर
 - 3. मथ्य पदेश
 - 4. राजइथान

Question ID : 239087231
Status : Not Answered
Chosen Option : --

Q.24 नेशनल इंडस्ट्रीट म" से कौन-सा एक इ@तीयक इषक है?

- Ans
- 1. इमोग
 - 2. काबन मोनो ऑइसाइड (CO)
 - 3. Rलाई ऐश
 - 4. काबन डायऑइसाइड

Question ID : 239087248
Status : Answered
Chosen Option : 1

Q.25 इलोवा इकया कः पहली मइहला राइपइत कौन है?

- Ans
- 1. ज;जाना कैपुतोवा
 - 2. वेलनटःना तेरेहकोवा
 - 3. बैटः इमलर
 - 4. जैरी मॉक

Question ID : 239087237
Status : Answered
Chosen Option : 2

pdfinbox.in