

## Multi Tasking (Non-Technical) Staff Examination 2019

Roll No.	
Registration No.	
Name	SSC MTS
Test Venue	iON Digital Zone iDZ 1 Sector 62
Test Time	12:30 PM - 2:00 PM
Test Date	02/08/2019

Section : General English

Q.1 Choose the word that can substitute the given sentence. A building where an audience sits

- Ans
- 1. Aisle
  - 2. Hanger
  - 3. Gymnasium
  - 4. Auditorium

Question ID : 23908747

Status : Answered

Chosen Option : 4

Select the most appropriate option to fill in the blank. He his portrait in the main hall.

- Ans
- 1. had hanged
  - 2. hung
  - 3. hang
  - 4. hanged
  -

Question ID : 23908734

Status : Answered

Chosen Option : 2

Q.3 Choose the correctly spelt word. Ans

- 1. Anthusiasm
- 2. Enthudiesm
- 3. Enthusiasn
- 4. Enthusiasn

Question ID : 23908749

Status : Answered

Chosen Option : 3

Q.4 Choose the word that can substitute the given sentence. A book of names and addresses

- Ans
- 1. Diary
  - 2. Directory
  - 3. Dictionary
  - 4. Journal

Question ID : 23908748  
Status : Answered  
Chosen Option : 4

Q.5 Select the most appropriate synonym of the given word.  
Misfortune

- Ans
- 1. Benefit
  - 2. Calamity
  - 3. Support
  - 4. Miracle

Question ID : 23908741  
Status : Answered  
Chosen Option : 2

Q.6 Select the most appropriate synonym of the given word. Capable

- Ans
- 1. Competent
  - 2. Conceited
  - 3. Complacent
  - 4. Consistent

Question ID : 23908742  
Status : Answered  
Chosen Option : 1

Q.7 Select the most appropriate option to substitute the underlined segment in the given sentence. If there is no need to substitute it, select No Improvement.  
Mohan is pleased at the news yesterday.

- Ans
- 1. No Improvement
  - 2. was pleased
  - 3. had being pleased
  - 4. has been pleased

Question ID : 23908732  
Status : Answered  
Chosen Option : 2

Q.8 Select the most appropriate antonym of the given word. Comic

- Ans
- 1. Tickle
  - 2. Happy
  - 3. Tragic
  - 4. Jubilant

Question ID : 23908744  
Status : Answered  
Chosen Option : 3

Q.9 Select the most appropriate option to substitute the underlined segment in the given

sentence. If there is no need to substitute it, select No Improvement. The doctor has reassure me that the operation was a routine one.

- Ans
- 1. No Improvement
  - 2. had reassured me
  - 3. is reassured me
  - 4. reassure me

Question ID : 23908731  
Status : Answered  
Chosen Option : 2

Q.10 In the following question, out of the given four alternatives, select the alternative which best expresses the meaning of the Idiom/Phrase.  
Over my dead body

- Ans
- 1. Opposing something fiercely
  - 2. Inheriting to fortune
  - 3. Erecting a grave stone
  - 4. Threatening to kill oneself

Question ID : 23908745  
Status : Answered  
Chosen Option : 1

Q.11 A sentence has been given with a blank to be filled with an appropriate word. Choose the correct alternative.

The bullet struck a wall and was \_\_\_\_\_ from its course.

- Ans
- 1. reflected
  - 2. twisted
  - 3. deflected
  - 4. crashed

Question ID : 23908751  
Status : Answered  
Chosen Option : 2

Q.12 Find the part of the given sentence that has an error in it. If there is no error, choose 'No error'.  
My aunt/sold her boutique/to a billionaire.

- Ans
- 1. to a billionaire
  - 2. sold her boutique
  - 3. My aunt
  - 4. No error

Question ID : 23908728  
Status : Answered  
Chosen Option : 1

Q.13 In the following question, out of the given four alternatives, select the alternative which best expresses the meaning of the Idiom/Phrase.  
To end in smoke

- Ans
- 1. To do one's duty well
  - 2. To not agree to something

 3. To be the cause of a quarrel

 4. To come to nothing

Question ID : 23908746

Status : Answered

Chosen Option : 3

**Q.14 Find the part of the given sentence that has an error in it. If there is no error, choose 'No error'.**

All the students/is done/better this year.

Ans  1. All the students

 2. is done

 3. No error

 4. better this year

Question ID : 23908727

Status : Answered


Chosen Option : 2

**Q.15 Find the part of the given sentence that has an error in it. If there is no error, choose 'No error'.**

Rakesh is foolish/to said/such things.

Ans  1. to said

 2. No error

 3. such things

 4. Rakesh is foolish



Question ID : 23908729

Status : Answered

Chosen Option : 1

**Q.16 Choose the correctly spelt word.**

Ans  1. Financialy

 2. Financially

 3. Finantially

 4. Finencially

Question ID : 23908750

Status : Answered

Chosen Option : 2

**Q.17 Select the most appropriate antonym of the given word.**

Inexpensive

Ans  1. Dear

 2. Reasonable

 3. Popular

 4. Liberal

Question ID : 23908743

Status : Answered

Chosen Option : 4

Q.18 Select the most appropriate option to fill in the blank. My teacher is the \_\_\_\_\_ of all.

- Ans  1. kindest  
 2. kind  
 3. kinder  
 4. kindly

Question ID : 23908733

Status : Answered

Chosen Option : 1

**Comprehension:**

In the following passage some words have been deleted. Fill in the blanks with the help of the alternatives given. Select the most appropriate option for each blank.  
Sanitation refers to public health conditions (1)\_\_\_\_\_to clean drinking water and adequate treatment and disposal (2)\_\_\_\_\_human waste and sewage. (3)\_\_\_\_\_human contact with faeces is part of sanitation. Sanitation system (4)\_\_\_\_\_to protect human health by providing a clean environment (5)\_\_\_\_\_will stop the transmission of disease.

**SubQuestion No : 19**

Q.19 Select the most appropriate option for blank No. 1. Ans

1. relate  
 2. relation  
 3. related  
 4. relates

Question ID : 23908736

Status : Answered

Chosen Option : 4

**Comprehension:**

In the following passage some words have been deleted. Fill in the blanks with the help of the alternatives given. Select the most appropriate option for each blank.  
Sanitation refers to public health conditions (1)\_\_\_\_\_to clean drinking water and adequate treatment and disposal (2)\_\_\_\_\_human waste and sewage. (3)\_\_\_\_\_human contact with faeces is part of sanitation. Sanitation system (4)\_\_\_\_\_to protect human health by providing a clean environment (5)\_\_\_\_\_will stop the transmission of disease.

**SubQuestion No : 20**

Q.20 Select the most appropriate option for blank No. 2. Ans

1. of  
 2. for  
 3. with  
 4. in

Question ID : 23908737

Status : Answered

Chosen Option : 1

**Comprehension:**

In the following passage some words have been deleted. Fill in the blanks with the help of the alternatives given. Select the most appropriate option for each blank.  
Sanitation refers to public health conditions (1)\_\_\_\_\_to clean drinking water and adequate treatment and disposal (2)\_\_\_\_\_human waste and sewage. (3)\_\_\_\_\_human contact with faeces is part of sanitation. Sanitation system (4)\_\_\_\_\_to protect human health by providing a clean environment (5)\_\_\_\_\_will stop the transmission of disease.

**SubQuestion No : 21**

**Q.21 Select the most appropriate option for blank No. 3. Ans**

- 1. Preventing
- 2. Hampering
- 3. Prohibiting
- 4. Facilitating

Question ID : 23908738

Status : Answered

Chosen Option : 1

**Comprehension:**

In the following passage some words have been deleted. Fill in the blanks with the help of the alternatives given. Select the most appropriate option for each blank.

Sanitation refers to public health conditions (1)\_\_\_\_\_to clean drinking water and adequate treatment and disposal (2)\_\_\_\_\_human waste and sewage. (3)\_\_\_\_\_human contact with faeces is part of sanitation. Sanitation system (4)\_\_\_\_\_to protect human health by providing a clean environment (5)\_\_\_\_\_will stop the transmission of disease.

**SubQuestion No : 22**

**Q.22 Select the most appropriate option for blank No. 4. Ans**

- 1. ignores
- 2. paves
- 3. aims
- 4. directs
- 

Question ID : 23908739

Status : Answered

Chosen Option : 3

**Comprehension:**

In the following passage some words have been deleted. Fill in the blanks with the help of the alternatives given. Select the most appropriate option for each blank.

Sanitation refers to public health conditions (1)\_\_\_\_\_to clean drinking water and adequate treatment and disposal (2)\_\_\_\_\_human waste and sewage. (3)\_\_\_\_\_human contact with faeces is part of sanitation. Sanitation system (4)\_\_\_\_\_to protect human health by providing a clean environment (5)\_\_\_\_\_will stop the transmission of disease.

**SubQuestion No : 23**

**Q.23 Select the most appropriate option for blank No. 5. Ans**

- 1. that
- 2. who
- 3. whom
- 4. these

Question ID : 23908740

Status : Answered

Chosen Option : 2

**Q.24 A sentence has been given with a blank to be filled with an appropriate word. Choose the correct alternative.**

**I am \_\_\_\_\_ of winning the competition.**

- Ans
- 1. resistant
  - 2. confident

~~X~~ 3. pertinent

~~X~~ 4. reliant

Question ID : 23908752

Status : Answered

Chosen Option : 2

Q.25 Select the most appropriate option to substitute the underlined segment in the given sentence. If there is no need to substitute it, select No Improvement.

Who can prevent you from getting married now that you are within age?

Ans ~~X~~ 1. in

✓ 2. of

~~X~~ 3. No Improvement

~~X~~ 4. on

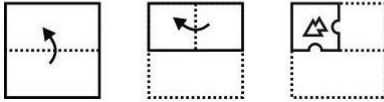
Question ID : 23908730

Status : Answered

Chosen Option : 1

Section : General Intelligence & Reasoning

Q.1 एक कागज को नीचे दी गयी प्रश्न आकृतियों में दिखाए अनुसार मोड़कर काटा गया है। खोलने के बाद वह किस उत्तर आकृति जैसा दिखाई देगा?



Ans

~~X~~ 1.




~~X~~ 2.



✓ 3.



~~X~~ 4.



Question ID : 239087304

Status : Answered

Chosen Option : 3

Q.2 एक कूट भाषा में, 'PRINT' को '96512' लिखा जाता है 'FROM' को '8603' लिखा जाता है। उसी कूट और भाषा में 'PROMPT' का कोड क्या होगा?

- Ans
- 1. 960398
  - 2. 960392
  - 3. 980392
  - 4. 960395

Question ID : 239087287

Status : Answered

Chosen Option : 2

Q.3 'नलखत वकपा म' से उस शब्द को चुनिए जो 'नलखत खला म' तीसरे शब्द से उसी तरह से संबंधित है जिस तरह से 'सरा शब्द पहले शब्द से संबंधित है।

गुफा : शेर :: अतबल : ?

- Ans
- 1. घोड़ा
  - 2. कार
  - 3. बाघ
  - 4. पत्नी

Question ID : 239087282

Status : Answered

Chosen Option : 1

Q.4 दिए गए पैटर्न का ध्यानपूर्वक अध्ययन करें और उस आकृति को चुनें जो प्रश्न चिह्न (?) के स्थान पर आएगी?



Ans

- 1.
- 2.
- 3.
- 4.

Question ID : 239087301

Status : Answered

Chosen Option : 1

Q.5 'नलखत वकपा म' से उस अक्षर युग्म को चुनिए जो 'नलखत खला म' तीसरे अक्षर युग्मसे उसी तरह से संबंधित है, जिस तरह से 'सरा अक्षर युग्म पहले अक्षर युग्म से संबंधित है।

PB : UW :: JT : ?

- Ans
- 1. NO



- ✓ 2. OO
- ✗ 3. MO
- ✗ 4. PP

Question ID : 239087284  
 Status : Answered  
 Chosen Option : 2

Q.6 उस आरेख को चुनिए जो नीचे दिए गए वर्गों के बीच के संबंध को सही प्रकार से दर्शाता है।

कार, लकड़ी, चूहा

Ans

- ✗ 1.
- ✓ 2.
- 3.
- 4.

Question ID : 239087305  
 Status : Answered  
 Chosen Option : 2

Q.7 जब एक दर्पण को AB रेखा पर रखा जाता है, तो नीचे दी गई आकृति की सही दर्पण छवि को चुनिए?



Ans

- ✗ 1.
- ✓ 2.

3.



4.



Question ID : 239087303

Status : Answered

Chosen Option : 2

Q.8 एक कूट भाषा म, 'TAN' को '33' ढलखा जाता है और 'PAM' को '28' ढलखा जाता है। उसी कूट भाषा म 'BUG' का कोड Fया होगा?

- Ans
- 1. 32
  - 2. 29
  - 3. 28
  - 4. 30

Question ID : 239087288

Status : Answered

Chosen Option : 3

Q.9 नीचे ढदए ढवकडपा म से उस संया को चुनए जो ढन'नढलढखत ढेखला म #ढे ढच (?) के 5थान पर आएगी।  
43, 31, 74, 105, 179, ?

- Ans
- 1. 279
  - 2. 284
  - 3. 294
  - 4. 263

Question ID : 239087294

Status : Answered

Chosen Option : 3

Q.10 यढद दो ढच, 'x तथा ÷' को आपस म बदल ढदया जाता है तो ढन'नढलढखत म से कौन सा समीकरण सही

- हेर Ans
- 1.  $14 + 62 \times 13 \div 31 = 38$
  - 2.  $14 + 9 \div 23 \times 3 = 83$
  - 3.  $11 \times 12 \div 48 + 6 = 40$
  - 4.  $63 + 59 \div 4 \times 8 = 171$

Question ID : 239087299

Status : Answered

Chosen Option : 2

Q.11

दिए गए पैटर्न का ध्यानपूर्वक अध्ययन करें और उस संख्या को चुनें जो प्रश्न चिह्न (?) के स्थान पर आएगी।

4 11 19  
5 6 0  
9 13 3  
18 30 ?

- Ans
- 1. 20
  - 2. 24
  - 3. 18
  - 4. 22

Question ID : 239087297  
Status : Answered  
Chosen Option : 4

Q.12 नीचे दिए गए पैटर्न में से उस अक्षर युग्म को चुनिए जो 'न' नलखत 'खला म' # 'च' (?) के स्थान पर आएगा।

KP, HM, EJ, BG, ?

- Ans
- 1. XC
  - 2. YD
  - 3. ZE
  - 4. YC

Question ID : 239087281  
Status : Answered  
Chosen Option : 2

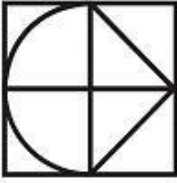
Q.13 दिए गए विकल्पों में से उस उत्तर आकृति को चुनिए जिसमें नीचे दी गई आकृति अन्तर्निहित है। (आकृति को घुमाने की अनुमति नहीं है)



Ans

- 1.
- 2.
- 3.

✓ 4.




Question ID : 239087302

Status : Answered

Chosen Option : 2

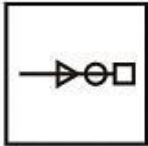
Q.14 दिए गए विकल्पों में से उस आकृति को चुनिए जो निम्नलिखित श्रृंखला में अगले स्थान पर आएगी।

pdfinbox.in

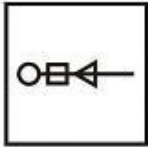


Ans

✗ 1.

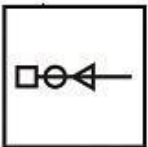


2.



3.

✗



4.



Question ID : 239087300

Status : Answered

Chosen Option : 4

Q.15 एक कूट भाषा में, 'GREAT' को 'ALYUN' ढलखा जाता है। उसी कूट भाषा में 'RAPID' का कोड क्या होगा? Ans ✓ 1. LUJCX

✗ 2. SWLEZ

✗ 3. LVJCX

✗ 4. RVKDY

Question ID : 239087285

Status : Answered

Chosen Option : 1

Q.16 पाँच ढकतावे - B, G, N, P तथा T एक के ऊपर एक रखी गई है (जवरी नहं ढक वे इसी उम म" हा)। N तथा क्रमशः केवल एक ढकताव रखी गयी है। B, P के ठाक ऊपर है। B, N के ऊपर है। G, N के ऊपर नहं है। सबसे ऊपर कौन सी ढकताव है?

Ans ✓ 1. B

- 2. G
- 3. T
- 4. P

Question ID : 239087291  
Status : Answered  
Chosen Option : 1

Q.17 नीचे ङदए गए कथना और उनके ङनरकषा को ङ्यान से पङदए। कथना म" दऱ गई जानकारी को सङय मानतेए चाहे वे सामा=य Wप से ङात त\*या से ङभU लगेते हा, ङनण य कऱङजए ङक ङदए गए कौनसा/से ङनरकष', कथना का ताऱकक Wप से अनुसरण करता/करते ह\*।

कथन:

- I. कु छ K, M ह\*।
- II. कोई T, M नहीं है।

ङनरकष' :

- I. कु छ T, K ह\*।
- II. कु छ M, K ह\*।

- Ans
- 1. दोना ङनरकष' I तथा II अनुसरण करतेह\*।
  - 2. केवल ङनरकष' I अनुसरण करता है।
  - 3. कोई भी ङनरकष' अनुसरण नह? करता है।
  - 4. के वल ङनरकष' II अनुसरण करता है।

Question ID : 239087293  
Status : Answered  
Chosen Option : 4

Q.18 उस शऱद यु'म का चयन कऱङजए ङजसके दोना शऱद आपस म" उसी #कार संबंङधत है ङजस #कार नीचे ङदए शऱद यु'म केदोना शऱद आपस म" संबंङधत है।

वृU : आकृ ङत

- Ans
- 1. ङखलौना : खेलना
  - 2. कार : चालक
  - 3. शाप'नर : लेखन-सामऱी
  - 4. कृं तक : सरीसृप

Question ID : 239087283  
Status : Answered  
Chosen Option : 3

Q.19 पाँच ङBU - F, J, N, R तथा V के=\ कऱ और मुख करके एक वृUाकार मेज केइद'-ङगद' बैठे\ए ह\* ङरि नहऱं ङक वे इसी Uम म" हो)। J, F के तुरंत बायऱं और बैठा है। N, F के बायऱं और \सरे ऱथान पर है। V, J के बायऱं और \सरे ऱथान पर है। J के दायऱं और \सरे ऱथान पर कौन बैठा \आ है?

- Ans
- 1. R
  - 2. N
  - 3. F
  - 4. V

Question ID : 239087290  
Status : Answered  
Chosen Option : 1

Q.20 नीचे ङदए गए कथना और उनके ङनरकषा को ङ्यान से पङदए। कथना म" दऱ गई जानकारी को सङय मानते \ए,

चाहे वे सामान्य रूप से जात तथा से भ्रमण करते हैं, भ्रमण का कारण है कि वे एक ही देश में रहते हैं/से भ्रमण, वहाँ का तापमान रूप से अनुसरण करता/करते हैं।

कथन:

कुछ बत न देखे हैं

सभी देखे हैं।

कोई पेड़ शाखा नहीं है।

भ्रमण:

I. कुछ बत न शाखाएँ हैं।

II. कुछ पेड़ देखे हैं।

III. कुछ शाखाएँ देखे हैं।

- Ans
- 1. भ्रमण I और III अनुसरण करते हैं।
  - 2. केवल भ्रमण III अनुसरण करता है।
  - 3. केवल भ्रमण II अनुसरण करता है।
  - 4. भ्रमण I और II अनुसरण करते हैं।

Question ID : 239087292

Status : Answered

Chosen Option : 3

Q.21 एक कूट भाषा में, 'STEALH' को 'UXGENL' लिखा जाता है। उसी कूट भाषा में 'ROBNRT' का कोड होगा?

- Ans
- 1. TSERTX
  - 2. UTESUY
  - 3. TSDRTX
  - 4. UTFSUY

Question ID : 239087286

Status : Answered

Chosen Option : 3

Q.22 नैनलखत वक्रापा म से उस संख्या को चुनें जो नैनलखत  $AE$  खला म तीसरी संख्या से उचित संबंधित है वजस तरह से सरी संख्या पहली संख्या से संबंधित है।

36 : 109 :: 25 : ?

- Ans
- 1. 72
  - 2. 76
  - 3. 74
  - 4. 78

Question ID : 239087296

Status : Answered

Chosen Option : 2

Q.23 नीचे दिए वक्रापा म से उस संख्या को चुनें जो नैनलखत  $AE$  खला म #AE वच (?) के 5थान पर आएगी।

69, 109, 159, 219, 289, ?

- Ans
- 1. 349
  - 2. 359
  - 3. 369
  - 4. 379

Question ID : 239087295  
Status : Answered  
Chosen Option : 3

Q.24 छह भाषा - C, E, G, I, K तथा M के अक्षरों को एक ओर मुख करके एक वृत्ताकार मेज के इर्द-गिर्द बैठे हैं और वे सभी एक-दूसरे से बराबर दूरी पर हैं (जवरी नहीं एक वे इसी उमर में हों)। E, C के दायाँ ओर पर दसरे स्थान पर है। K, G के तुरंत दायाँ ओर पर है। G तथा I एक-दूसरे की तरफ आमने-सामने मुंह एक-दूसरे हैं। I के बायाँ ओर से चलते हैं, I तथा M के मध्य एक-दूसरे बैठे हैं।

- Ans  1. 3  
 2. 1  
 3. 0  
 4. 2

Question ID : 239087289  
Status : Answered  
Chosen Option : 3

Q.25 यदि अंक 2 और अंक 1 को परस्पर बदल दिया जाता है तो निम्नलिखित समीकरण का मान क्या होगा?

$$9 + 6 \div 4 \times 21 - 5 = ?$$

- Ans  1. 22  
 2. 23  
 3. 29  
 4. 24

Question ID : 239087298  
Status : Answered  
Chosen Option : 1

Section : Numerical Aptitude

Q.1 यदि  $U + V = 80$  तथा  $U : V = 5 : 3$  है, तो  $U - V$  का मान कितना है?

- Ans  1. 20  
 2. 15  
 3. 30  
 4. 25

Question ID : 239087417  
Status : Answered  
Chosen Option : 1

Q.2  $A = \frac{3}{4}$  तथा  $\frac{9}{16}$  का महत्तम समापवर्तक (एच सी एफ)

$B = \frac{16}{5}$  तथा  $\frac{4}{25}$  का लघुत्तम समापवर्तक (एल सी एम)

$A + B$  का मान कितना है?

- Ans  1.  $\frac{250}{70}$   
 2.  $\frac{21}{23}$

3.  $\frac{271}{80}$
4.  $\frac{260}{71}$

Question ID : 239087406  
Status : Answered  
Chosen Option : 3

Q.3 किसी वस्तु को 25% लाभ तथा 37.5% हानि पर बेचने से विक्रय मूल्य का अंतर ₹1250 है। जब इसे 12.5% लाभ पर बेचा जाता है तो इसका विक्रय मूल्य कितना होगा?

- Ans
1. ₹1800
2. ₹2500
3. ₹2400
4. ₹2250

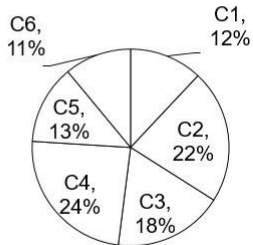
Question ID : 239087414  
Status : Answered  
Chosen Option : 4

Q.4 49, 62, 37, 55 तथा x का औसत 53 है। x का मान कितना है?

- Ans
1. 56
2. 68
3. 76
4. 62

Question ID : 239087409  
Status : Answered  
Chosen Option : 4

Q.5 नीचे दिया गया वृत्त-आरेख, छह अलग-अलग कंपनियों द्वारा किसी कार्यालय में प्रदत्त लैपटॉप की संख्या को, लैपटॉपों की कुल संख्या के प्रतिशत के रूप में दर्शाता है। वृत्त-आरेख में प्रदर्शित केंद्रीय कोण किसी चयनित पैमाने के अनुसार नहीं है।



- Ans
1.  $51.7^\circ$
2.  $45.1^\circ$
3.  $39.6^\circ$
4.  $52.8^\circ$

Question ID : 239087430  
Status : Answered



Q.6 किसी वस्तु का अंकित मूल्य ₹2500 है। उसे क्रमशः 12% तथा 10% की दो क्रमिक छूटों पर बेचा जाता है। विक्रय मूल्य कितना है?

- Ans
- 1. ₹1870
  - 2. ₹2090
  - 3. ₹1760
  - 4. ₹1980

Question ID : 239087411

Status : Answered

Chosen Option : 4

Q.7 महेश का वेतन सुमित के वेतन से ₹12000 अधिक है। यदि महेश तथा सुमित के वेतन का अनुपात 7 : 4 है, तो सुमित का वेतन कितना है?

- Ans
- 1. ₹16000
  - 2. ₹12000
  - 3. ₹18000
  - 4. ₹20000

Question ID : 239087418

Status : Answered

Chosen Option : 1

Q.8  $7 \div 2 - [3 \text{ of } 7 \div 4 \div \{(2 \div 5) \times (25 \div 8) \div (5 \div 2)\}]$

का मान कितना है?

- Ans
- 1. -8
  - 2. -7
  - 3. -1
  - 4. -9

Question ID : 239087408

Status : Answered

Chosen Option : 2

Q.9 DD.MM के रूप में लिखित, वर्ष 2019 की माध्यिका-तिथि (मीडियन डेट) है:

- Ans
- 1. 01.07
  - 2. 30.06
  - 3. 02.07
  - 4. 03.07

Question ID : 239087412

Status : Answered

Chosen Option : 1

Q.10 एक कार 6 मिनट में 300 मीटर की दूरी तय कर सकती है। उसकी औसत गति km/h में कितनी है?

- Ans
- 1. 50
  - 2. 3
  - 3. 12
  - 4. 6

Question ID : 239087423  
Status : Answered  
Chosen Option : 2

Q.11 एक व्यक्ति अपने वेतन का 10% भोजन पर खर्च करता है। वह शेष भाग का 20% ईंधन पर खर्च करता है। यदि उसके पास ₹4680 शेष है, तो उसका वेतन कितना है?

- Ans
- 1. ₹6000
  - 2. ₹5000
  - 3. ₹6500
  - 4. ₹5500

Question ID : 239087413  
Status : Answered  
Chosen Option : 3

Q.12 शांत जल में एक नाव की गति 8 km/h है। यदि धारा की गति 2 km/h है, तो धारा के प्रतिकूल जाते हुए 2 घंटे में नाव कितनी दूरी तय करेगी?

- Ans
- 1. 16 km
  - 2. 14 km
  - 3. 20 km
  - 4. 12 km

Question ID : 239087424  
Status : Answered  
Chosen Option : 4

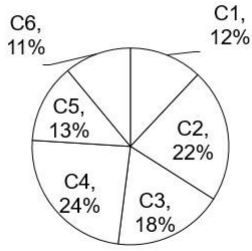
Q.13 किसी समचतुर्भुज की परिमाप 20 cm है। इसके एक विकर्ण की लम्बाई 6 cm है। दूसरे विकर्ण की लम्बाई कितनी है?

- Ans
- 1. 10 cm
  - 2. 8 cm
  - 3. 9 cm
  - 4. 6 cm

Question ID : 239087426  
Status : Answered  
Chosen Option : 2

Q.14

नीचे दिया गया वृत्त-आरेख, छह अलग-अलग कम्पनियों द्वारा किसी कार्यालय में प्रदत्त लैपटॉप की संख्या को, लैपटॉपों की कुल संख्या के प्रतिशत के रूप में दर्शाता है। वृत्त-आरेख में प्रदर्शित केंद्रीय कोण किसी चयनित पैमाने के अनुसार नहीं है।



कंपनी C1 तथा कंपनी C3 के लैपटॉपों की संख्या का अनुपात कितना है?

- Ans
- 1. 2 : 1
  - 2. 12 : 11
  - 3. 2 : 3
  - 4. 6 : 11

Question ID : 239087428

Status : Answered

Chosen Option : 2

Q.15 कोई व्यक्ति 2 वर्षों के लिए ₹500, 5 वर्षों के लिए ₹600 तथा 6 वर्षों के लिए ₹1000 सभी को साधारण ब्याज की समान दर पर जमा करता है। यदि वह कुल ₹1000 का साधारण ब्याज प्राप्त करता है, तो प्रति वर्ष ब्याज की दर कितनी है?

- Ans
- 1. 15%
  - 2. 5%
  - 3. 10%
  - 4. 20%

Question ID : 239087419

Status : Answered

Chosen Option : 3

Q.16 8 सोने के सिक्कों का औसत भार 20 g प्रति सिक्का है। चाँदी के 12 सिक्कों का औसत भार 35 g प्रति सिक्का है। 20 सिक्कों के लिए प्रति सिक्का औसत भार कितना है?

- Ans
- 1. 25 g
  - 2. 29 g
  - 3. 21 g
  - 4. 31 g

Question ID : 239087410

Status : Answered

Chosen Option : 2

Q.17 किसी वस्तु को 15% लाभ पर ₹1725 में बेचा जाता है। यदि इसे 15% की हानि पर बेचा जाता है तो विक्रय मूल्य कितना होगा?

- Ans
- 1. ₹1275
  - 2. ₹1475

✗ 3. ₹1025

✗ 4. ₹1325

Question ID : 239087415

Status : Answered

Chosen Option : 1

Q.18

एक वर्ग की भुजा 6 cm है। वर्ग के अंदर बनने वाले सबसे बड़े वृत्त का क्षेत्रफल कितना है?  $(\pi = \frac{22}{7}$  लें)

Ans

✓ 1.  $\frac{198}{7} \text{ cm}^2$

✗ 2.  $\frac{318}{7} \text{ cm}^2$

✗ 3.  $\frac{252}{7} \text{ cm}^2$

✗ 4.  $\frac{156}{7} \text{ cm}^2$

Question ID : 239087425

Status : Answered

Chosen Option : 1

Q.19

A अकेला किसी कार्य को 30 दिन में कर सकता है। B अकेला उसी कार्य को 40 दिन में कर सकता है। यदि A से शुरुआत करके वे एकांतर दिनों (अल्टरनेट डेज़) में काम करते हैं, तो कार्य कितने दिनों में (दशमलव के दो स्थानों तक) पूरा हो जाएगा?

Ans

1. 34.25

✗ 2. 32.33

✗ 3. 16.33

✗ 4. 17.25

Question ID : 239087422

Status : Answered

Chosen Option : 1

Q.20

यदि कोई राशि चक्रवृद्धि ब्याज (वार्षिक संयोजित) की समान दर से दो वर्ष पश्चात ₹4000 तथा चार वर्ष पश्चात ₹6000 हो जाती है, तो राशि कितनी है?

Ans

✗ 1. ₹2888.88

✓ 2. ₹2666.66

✗ 3. ₹2777.77

✗ 4. ₹2866.66

Question ID : 239087420

Status : Not Answered

Chosen Option : --

Q.21

$\frac{3}{4}$  of  $(\frac{1}{3} \div \frac{1}{2}) + (2 - \frac{2}{5}) \times \frac{3}{2} + \frac{2}{3}$  का मान कितना है?

Ans

✓ 1.  $\frac{107}{30}$

2.  $\frac{101}{6}$
3.  $\frac{109}{17}$
4.  $\frac{103}{25}$

Question ID : 239087407  
 Status : Answered  
 Chosen Option : 1

Q.22 A तथा B मिलकर किसी कार्य को 20 दिन में कर सकते हैं। B तथा C मिलकर उसी कार्य को 25 दिन में कर सकते हैं। C तथा A मिलकर उसी कार्य को 15 दिन में कर सकते हैं। A अकेला उस कार्य को कितने दिनों में कर सकता है?

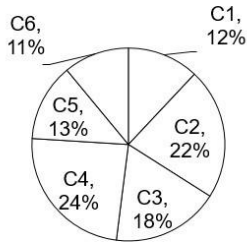
Ans

1.  $\frac{600}{17}$
2.  $\frac{600}{23}$
3.  $\frac{1200}{23}$
4.  $\frac{1200}{17}$

Question ID : 239087421

Status : Answered  
 Chosen Option : 2

Q.23 नीचे दिया गया वृत्त-आरेख, छह अलग-अलग कंपनियों द्वारा किसी कार्यालय में प्रदत्त लैपटॉप की संख्या को, लैपटॉपों की कुल संख्या के प्रतिशत के रूप में दर्शाता है। वृत्त-आरेख में प्रदर्शित केंद्रीय कोण किसी चयनित पैमाने के अनुसार नहीं है।



Ans का  में 382 टॉपों की कुल संख्या 3800 है तो कंपनी C2 तथा C5 के लैपटॉपों की संख्या में अंतर कितना है?

2. 362
3. 342
4. 322

Question ID : 239087429

Status : Answered  
 Chosen Option : 3

Q.24 किसी घनाभ की लम्बाई, चौड़ाई और ऊंचाई क्रमशः 15 cm, 12 cm तथा 11 cm है। लम्बाई को  $6\frac{2}{3}\%$  घटा दिया जाता है और चौड़ाई को  $8\frac{1}{3}\%$  बढ़ा दिया जाता है जबकि ऊंचाई को अपरिवर्तित रखा जाता है। घनाभ के (लम्बाई और चौड़ाई से बने आयत को आधार मानते हुए) चार पार्श्व-फलकों के कुल क्षेत्रफल में कितना परिवर्तन है?

Ans

1.  $22 \text{ cm}^2$  की कमी

2. 22 cm<sup>2</sup> की वृद्धि
3. कोई परिवर्तन नहीं
4. 33 cm<sup>2</sup> की वृद्धि

Question ID : 239087427  
Status : Answered  
Chosen Option : 3

Q.25 यदि  $x + y + z = 400$  तथा  $x : y : z = 1 : 1 : 2$  है, तो  $z$  का मान कितना है?

- Ans
1. 100
  2. 150
  3. 120
  4. 200

Question ID : 239087416  
Status : Answered  
Chosen Option : 4

Section : General awareness

Q.1 उपभोक्ता संरक्षण अधिनियम, 2018 ने उपभोक्ता संरक्षण अधिनियम का 5थान ले लिया है जिससे म" लागू किया गया था।

- Ans
1. 1988
  2. 1984
  3. 1986
  4. 1989

Question ID : 239087165  
Status : Not Answered  
Chosen Option : --

Q.2 गनमेटल (Gunmetal) किस मूल धातु से बनामता है

- Ans
1. कॉपर, स्टन, यजक
  2. कॉपर, लेड, इस्पात
  3. कॉपर, यजक, लेड
  4. कॉपर, आयरन, इन्के ल

Question ID : 239087173  
Status : Answered  
Chosen Option : 4

Q.3 भारतीय संविधान म" इन निलखत म" से कौन-सी विशेषता को सोवियत सोशलिस्ट रिपब्लिक (USSR) से लिया गया था?

- Ans
1. मौलिक अधिकार
  2. पंचवर्ष योजना
  3. पंजाब

4. समवर्त सूची

Question ID : 239087167  
Status : Answered  
Chosen Option : 1

Q.4 डु गाग ङकस जैवमंडल संरक्षण ढिफ का #मुख जीव है?

- Ans
- 1. ङसमलीपाल
  - 2. मर्रार कऱ खाड़ी
  - 3. मानस
  - 4. ढेट रण ऑफ कऱछ

239087175  
Question ID : Answered  
Status : 1  
Chosen Option :

Q.5 ङन'नऱलऱखत म' से कौन-सी नोबल गैस अचेतन-शु=य ङलये उपयोग कऱ जाती है?  
करने के

- Ans
- 1. ङीनान
  - 2. आगन
  - 3. ङनर्यॉन
  - 4. हीऱलयम

Question ID : 239087174  
Status : Answered  
Chosen Option : 2

Q.6 गुरजीत कौर का ङन'नऱलऱखत म' से ङकस खेल से संबंढ है?

- Ans
- 1. हॉकऱ
  - 2. कु ढती
  - 3. भारोकोलन
  - 4. तैराकऱ

Question ID : 239087160  
Status : Answered  
Chosen Option : 1

Q.7 ङन'नऱलऱखत म' से कौन-सा ङयोहार ओऱडशा म' मनाया जाता है?

- Ans
- 1. बोनालु
  - 2. छ'पड़ मेला
  - 3. बाली तृतीय
  - 4. हॉनऱबल

Question ID : 239087158  
Status : Not Answered  
Chosen Option : --

Q.8 बेरीबेरी \_\_\_\_\_ कऱ कमी केकारण होता है।

- Ans
- 1. ङवटाऱमन B3

- 2. इवटाइमन B6
- 3. इवटाइमन B1
- 4. इवटाइमन B12

Question ID : 239087171  
Status : Answered  
Chosen Option : 3

Q.9 आन-ए-अकबरी' के लेखक कौन थे?

- Ans
- 1. खाफत खां
  - 2. अबुल फजल
  - 3. अकबर
  - 4. भीमसेन

Question ID : 239087178  
Status : Answered  
Chosen Option : 2

Q.10 गोल गु'बज भारत के इकस राउय म" इ5थत है?

- Ans
- 1. आंNPदेश
  - 2. कनाटक
  - 3. महाराइ
  - 4. के रल

Question ID : 239087157  
Status : Answered  
Chosen Option : 3

Q.11 इन'नइलइखत म" से कौन-सा नइय गोवा का लोक नइय है?

- Ans
- 1. फगुआ
  - 2. फु गड़ी
  - 3. इबा
  - 4. मांच

Question ID : 239087156  
Status : Answered  
Chosen Option : 1

Q.12 इन'नइलइखत म" से कौन-सा इटेइडयम इवण का सबसे बड़ा इUके ट इटेइडयम है?

- Ans
- 1. पथ इटेइडयम
  - 2. लॉड'स इWके ट इटेइडयम
  - 3. ईडन गाड'न
  - 4. मेलबन' इWके ट इाउंड

Question ID : 239087159  
Status : Answered  
Chosen Option : 2

Q.13



ॢन'नॢलॢखत म' से कौन-सा कोॢशका अंगक(Cell Organelles) आॢमहडया कॢ थैली (Suicide Bag) के ढर्र' जाना जाता है?

- Ans
- 1. गॉॢजी तंत
  - 2. सूॢकॢणका
  - 3. लयनकाय
  - 4. अ=त: PVEी जाॢलका

Question ID : 239087172

Status : Answered

Chosen Option : 3

Q.14 सूॢजकुंड झील ॢन'नॢलॢखत राॢया म' से ॢकस राॢय म' ॢ है?

- Ans
- 1. हॢरयाणा
  - 2. गुजरात
  - 3. पंजाब
  - 4. राजॢथान

Question ID : 239087177

Status : Answered

Chosen Option : 1

Q.15 भारत के मु'य =यायाधीश कॢ ॢनयुॢॢ कौन करता है?

- Ans
- 1. Pथान मंॢी
  - 2. लोकसभा अय्यॢ
  - 3. उपराॢपॢत
  - 4. राॢपॢत

Question ID : 239087169

Status : Answered

Chosen Option : 4

Q.16 'अमुॢ मॢयादा' का लेखन ॢकसने ॢकया

- Ans
- 1. कृॢणदेव राय
  - 2. #ॢदेव राय
  - 3. बुॢका राय
  - 4. हॢरहर राय

Question ID : 239087162

Status : Not Answered

Chosen Option : --

Q.17 ए#ाइम ॢमॢनॢटरटू ॢरमे'बर-मेमोरीज ऑॢए ॢमॢलॢत चीॢर' नामक पुॢतक का लेखन ॢकस पूव' मु'य नेॢएडॢमरल ने ॢकया है?

- Ans
- 1. सुशील कु मार
  - 2. अॢण Pकाश
  - 3. देवे= कु मार
  - 4. ॢनम'ल कु मार

Question ID : 239087163  
Status : Answered  
Chosen Option : 4

Q.18 मोहम्मद गौरी और पृथ्वीराज चौहान के बीच कौन-सी लड़ाई हुई थी?

- Ans  1. तराइन का लड़ाई  
 2. खानवा का युद्ध  
 3. लासी का लड़ाई  
 4. बफसर का युद्ध

Question ID : 239087180  
Status : Answered  
Chosen Option : 1

Q.19 नाइसोजन अणु रण के लिए कौन-सा सहजीवी जीवाणु उत्तरदायी है?

- Ans  1. राइजोबियम  
 2. स्ट्रेप्टोमोनास  
 3. लैक्टोबैसिलस  
 4. एजोटोबैक्टर

Question ID : 239087170  
Status : Not Answered  
Chosen Option : --

Q.20 जीएसटी (GST) पर 2018-19 में लागू की गई दर कितनी है?

- Ans  1. 33%  
 2. 35%  
 3. 25%  
 4. 23%

Question ID : 239087166  
Status : Answered  
Chosen Option : 1

Q.21 जून 2019 तक का 50वाँ संवत् के अनुसार, भारत का कौन-सा नाभिकीय ऊर्जा संयंत्र अधिकतम ऊर्जा का उत्पादन करता है?

- Ans  1. रावतभाटा  
 2. कुडनकुलम  
 3. कैगा  
 4. काकरापार

Question ID : 239087176  
Status : Answered  
Chosen Option : 3

Q.22 भारत में कृषि उत्पादन में वृद्धि के लिए कौन-सा वर्ष सबसे अधिक प्रसिद्ध है?

- Ans  1. 1925  
 2. 1922

3. 1927

4. 1930

Question ID : 239087179  
Status : Answered  
Chosen Option : 1

Q.23 द साइलेंट युॉई के लेखक/लेखिका

कौन है Ans

1. हावका मुराकामी

2. के=ज़ाबुरो ओए

3. जॉन डमपटन

4. माइकल मधुसूदन दक

Question ID : 239087161  
Status : Not Answered  
Chosen Option : --

Q.24 भारतीय राबतीय कांसेके 19व सॉ के अश्या

कौन है Ans

1. गोपाल कृरण गोखले

2. सर हेनरी कॉटन

3. लाल मोहन घोष

4. सुरे=नाथ बनजा

Question ID : 239087168  
Status : Answered  
Chosen Option : 3

Q.25 राजकोषीय घाटा का अथ Fया है?

Ans

1. सरकार द्वारा एकडत कुल राजव

2. सरकार के कु ल राजव और कु ल ँय के बीच अंतर

3. सरकार का कु ल ँय

4. सरकार द्वारा ली गयी कुल उधार राश

Question ID : 239087164  
Status : Answered  
Chosen Option : 4